




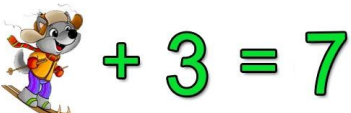



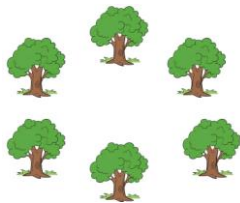

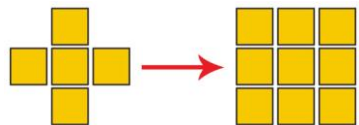




II Всероссийский интеллектуальный турнир
«Занимательная логика»
(для дошкольников)

Ответы

Ответ должен быть представлен строго в виде **ОДНОГО СЛОВА**, **БУКВЫ** или **ЧИСЛА** (согласно условию задания) без кавычек, точек, орфографических ошибок. Неверно записанные ответы не учитываются.

| Задание №1 | | Ответ |
|---|--|---------------------------|
| К Грише пришли в гости друзья и повесили свои варежки сушиться на батарею. Сколько друзей пришло к Грише? <i>В ответе запиши число друзей</i> |  | 5 |
| Задание №2 | | Ответ |
| Разгадай ребус! <i>В ответе запиши получившееся слово</i> |  | Шарф |
| Задание №3 | | Ответ |
| Кот и корова живут на одном этаже. Кто живёт на одном этаже с зайцем? 1. Кот 2. Петух 3. Корова <i>В ответе укажи только номер выбранного варианта (1 или 2 или 3)</i> |  | 2 Петух |
| Задание №4 | | Ответ |
| На каком рисунке нет круга?  <i>В ответе укажи только номер рисунка (1 или 2 или 3 или 4)</i> | | 3 |
| Задание №5 | | Ответ |
| На тарелке три яблока, две конфеты и одно пирожное. <i>Сколько фруктов на тарелке?</i> |  | 3 |
| Задание №6 | | Ответ |
| Волчонок любит кататься на лыжах и придумывать математические примеры. Какую цифру Волчонок обозначил своим изображением? <i>В ответе запиши цифру, спрятавшуюся под Волчонком</i> |  | 4 |
| Задание №7 | | Ответ |
| Продолжи заданную последовательность. Какая картинка окажется на месте знака вопрос?  <i>В ответе укажи только номер выбранного варианта (1 или 2)</i> |  | 2 Ананас |

| Задание №8 | | Ответ |
|---|--|-----------------------|
| <p>Сосчитай, сколько предметов на картинке не относятся к зиме. Запиши полученное число в ответе.</p>  <p><i>В ответе запиши полученное число</i></p> | | 2 |
| Задание №9 | | Ответ |
| <p>Гриша разделил шоколадку на 6 равных кусочков. Половину он оставил себе, а 3 кусочка отдал Мише.</p> <p>Кому досталось больше шоколадки?</p> <ol style="list-style-type: none"> 1. Грише 2. Мише 3. Одинаково <p><i>В ответе укажи только номер выбранного варианта (1 или 2 или 3)</i></p> | | 3 Одинаково |
| Задание №10 | | Ответ |
| <p>На лесной полянке растёт 6 деревьев по кругу. В каждом промежутке между деревьями Бурундук вырыл по одной норке для своего семейства.</p> <p>Сколько всего норок Бурундука на лесной полянке?</p> <p><i>В ответе запиши число норок у Бурундука</i></p> |  | 6 |
| Задание №11 | | Ответ |
| <p>Выбери на рисунке не посуду и не жёлтый предмет.</p>  <p><i>В ответе укажи только номер выбранного предмета (1 или 2 или 3 или 4)</i></p> | | 1 Кактус |
| Задание №12 | | Ответ |
| <p>Сколько квадратиков нужно добавить к первой фигуре, чтобы получить из нее вторую фигуру?</p> <p><i>В ответе запиши только число добавляемых квадратиков</i></p> |  | 4 |
| Задание №13 | | Ответ |
| <p>Какая пирамидка получится из всех этих деталей, которые изображены на картинке справа?</p>  <p><i>В ответе запиши только номер пирамидки (1 или 2 или 3 или 4)</i></p> |  | 3 |

Задание №14**Ответ**

Помоги Грише выбрать подходящий карандаш с соблюдением следующих условий: не синий, не жёлтый и не самый длинный.

1. Синий
2. Красный
3. Желтый
4. Зеленый

В ответе укажите только номер выбранного варианта (1 или 2 или 3 или 4)



4
зеленый

Оценка ответов на вопросы турнира:

- за каждый правильный ответ на задания с 1 по 12 – 7 баллов
- за каждый правильный ответ на задания с 13 по 14 – 8 баллов

Уважаемые ребята, родители и координаторы!

Мы будем очень благодарны Вам за оставленный отзыв о конкурсе.

Нам очень важно знать ваше мнение о конкурсных заданиях. Что нового вы узнали, участвуя в конкурсе? Какие задания показались лёгкими? А какие самыми сложными? Что вам не понравилось? Хотели бы вы ещё участвовать в подобных конкурсах?

Ждём все Ваши предложения, пожелания и замечания на наши электронные адреса: unikum.konkurs@yandex.ru и mir-konkursov2008@yandex.ru