
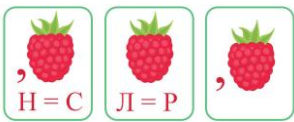


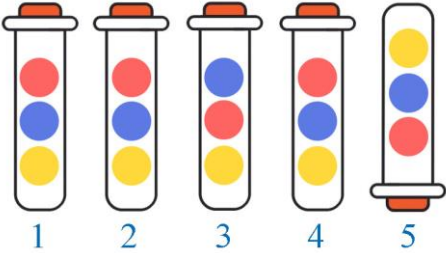

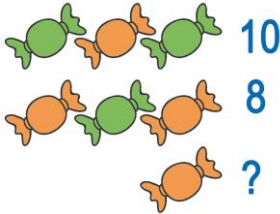



**Международный интеллектуальный турнир
«Мир ребусов и головоломок»
(для учащихся 3-4 классов)**

Ответы

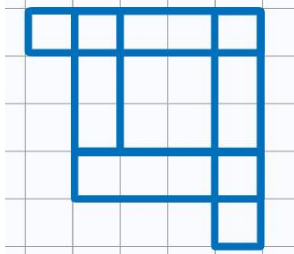
Ответ должен быть представлен строго в виде **ОДНОГО СЛОВА**, **БУКВЫ** или **ЧИСЛА** (согласно условию задания) без кавычек, точек, орфографических ошибок. Некоторые вопросы содержат подсказку – буквы ответа. Букву «ё» можно писать как «её» или как «е». Неверно записанные ответы не учитываются.

Задание №1		Ответ																																													
<p>В коробке 1 зелёный, 1 фиолетовый и 2 красных шара. Какое наименьшее количество шаров нужно взять не глядя, чтобы среди них точно оказался 1 красный шар?</p> <p><i>В ответе запиши наименьшее число шаров</i></p>		<p>3</p>																																													
Задание №2		Ответ																																													
<p>Три девочки записали свои имена ребусами. Какого имени нет среди этих ребусов.</p> <p>1. Алиса 2. Алина 3. Арина 4. Марина</p> <p><i>В ответе укажи только номер выбранного варианта (1 или 2 или 3 или 4)</i></p>		<p>3 Арина</p>																																													
Задание №3		Ответ																																													
<p>Какие три буквы пропущены во всех этих словах?</p> <div style="text-align: center;"> <table border="1"> <tr><td></td><td></td><td></td><td></td><td></td><td></td><td></td></tr> <tr><td></td><td></td><td></td><td>З</td><td>И</td><td>Н</td><td>А</td></tr> <tr><td></td><td></td><td></td><td>Ж</td><td>И</td><td>К</td><td></td></tr> <tr><td></td><td></td><td></td><td>М</td><td>У</td><td>Ш</td><td>К</td><td>А</td></tr> <tr><td></td><td></td><td></td><td>И</td><td>Ц</td><td>А</td><td></td><td></td></tr> <tr><td></td><td></td><td></td><td>О</td><td>Б</td><td>О</td><td>К</td><td></td></tr> </table> </div> <p>Сами слова переписывать не нужно.</p> <p><i>В ответе запиши только три недостающие буквы</i></p>											З	И	Н	А				Ж	И	К					М	У	Ш	К	А				И	Ц	А						О	Б	О	К			<p>Кор</p>
			З	И	Н	А																																									
			Ж	И	К																																										
			М	У	Ш	К	А																																								
			И	Ц	А																																										
			О	Б	О	К																																									
Задание №4		Ответ																																													
<p>Разгадай ребус!</p> <p><i>В ответе запиши получившееся словарное слово</i></p>		<p>Лестница</p>																																													
Задание №5		Ответ																																													
<p>В цепочке «школьных» слов спряталось название страны. Постарайся его найти. Помни, что читать буквы нужно по порядку, перескакивать нельзя. Каждая буква может входить в состав только одного слова.</p> <p align="center">УЧИТЕЛЬЯЗЫКТЕТРАДЬКЛАССРОССИЯПЕНАЛШКОЛАРУЧКА</p> <p><i>В ответе запиши название страны</i></p>		<p>Россия</p>																																													

Задание №6		Ответ
<p>Разгадай спортивный ребус! <i>В ответе запиши получившееся слово</i></p>		<p><i>Пенальти</i></p>
Задание №7		Ответ
<p>На картинке пять колб, среди которых четыре одинаковых, а одна отличается. Найди колбу, которая отличается и запиши её номер в ответе.</p>  <p><i>В ответе укажи только номер выбранного варианта (1 или 2 или 3 или 4 или 5)</i></p>		<p>3</p>
Задание №8		Ответ
<p>Разгадай ребус!</p>  <p>В каком варианте ответа есть все буквы из названия этого предмета?</p> <ol style="list-style-type: none"> 1. К У А Т Б 2. У А Т Б Т 3. А Т Б У Н <p><i>В ответе укажи только номер выбранного варианта (1 или 2 или 3)</i></p>		<p>2 <i>Батут</i></p>
Задание №9		Ответ
<p>Посмотрите на картинку. Две зелёных и одна оранжевая конфета стоят 10 рублей. Две оранжевых и одна зелёная конфета стоят 8 рублей. Сколько стоит одна оранжевая конфета?</p> <p><i>В ответе запиши цену оранжевой конфеты</i></p>		<p>2</p> <p><i>Решение:</i> Если из первого и второго рисунка убрать по одной зелёной и одной оранжевой конфете, то получится, что зелёная конфета стоит на 2 рубля больше оранжевой. Легко определяем, что зелёная конфета стоит 4 рубля, а оранжевая – 2 рубля.</p>
Задание №10		Ответ
<p>Рассмотри образец из геометрических фигур, найди закономерность.</p>  <p>Выбери ряд фруктов с такой же закономерностью.</p> <ol style="list-style-type: none"> 1. Apple, Pineapple, Watermelon, Pineapple, Apple, Pineapple, Watermelon, Pineapple 2. Pineapple, Apple, Watermelon, Pineapple, Pineapple, Apple, Watermelon, Pineapple 3. Pineapple, Pineapple, Apple, Watermelon, Pineapple, Pineapple, Apple, Watermelon <p><i>В ответе укажи только номер выбранного варианта (1 или 2 или 3)</i></p>		<p>1</p>

Задание №11

Сколько квадратов в представленной фигуре?
В ответе запиши общее число квадратов

**Ответ**

10

Задание №12

Разгадай ребус!
В ответе запиши получившееся слово

**Ответ**

Окулист

Задание №13

Вася 5 раз подбросил игральный кубик и набрал в общей сложности 29 очков.
Сколько раз у него выпала шестёрка?

**Ответ**

4


Решение:
 Шестёрка –наибольшее число, которое может выпасть на игральном кубике. Если бы все 5 раз выпали шестёрки, то получилось бы максимальное количество очков – 30. Но Вася набрал 29 очков, это значит, что вместо одной шестёрки ему выпала пятёрка.

Задание №14

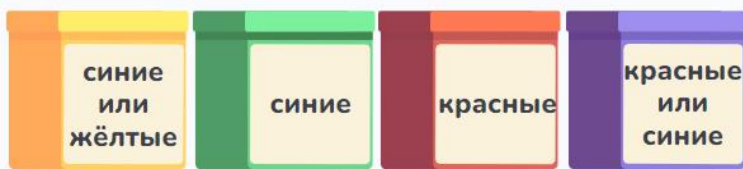
Реши sudoku!
 Какую картинку надо вставить вместо знака вопроса, чтобы в каждой строке и в каждом столбце изображения не повторялись?



В ответе укажи только номер выбранного варианта (1 или 2 или 3 или 4)

**Ответ**4
Вишня**Задание №15**

В каждой коробке шары одного цвета: синие, зелёные, красные или жёлтые. Все надписи на коробках ложные. В какой коробке лежат **синие** шары?



1. в жёлтой
2. в зелёной
3. в красной
4. в фиолетовой


В ответе укажи только номер выбранного варианта (1 или 2 или 3 или 4)

Ответ3
в красной

Решение:
 Учитывая, что все надписи на коробках ложные, синие шары не могут лежать в жёлтой, зелёной и фиолетовой коробке. Следовательно, синие шары лежат в красной коробке

Задание №16

Птичка легче Ёжика, а Ёжик легче Лисички.
Какая из трёх картинок верная?




1. Картинка 1
2. Картинка 2
3. Картинка 3

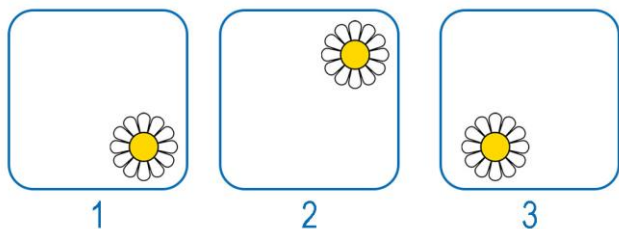
В ответе укажи только номер выбранного варианта (1 или 2 или 3)

Ответ**2****Задание №17**

Художник нарисовал ромашку в квадрате.



Порыв ветра перевернул картинку один раз по часовой стрелке и два раза против часовой стрелки. В каком углу квадрата теперь оказался цветок?



В ответе укажи только номер выбранного варианта (1 или 2 или 3)

Ответ**3**

Уважаемые ребята, родители и координаторы!

Мы будем очень благодарны Вам за оставленный отзыв о конкурсе.

Нам очень важно знать ваше мнение о конкурсных заданиях. Что нового вы узнали, участвуя в конкурсе? Какие задания показались лёгкими? А какие самыми сложными? Что вам не понравилось? Хотели бы вы ещё участвовать в подобных конкурсах?

Ждём все Ваши предложения, пожелания и замечания на наши электронные адреса:

mir-konkursov2008@yandex.ru и unikum-konkurs@yandex.ru