

# IV Международный межпредметный турнир



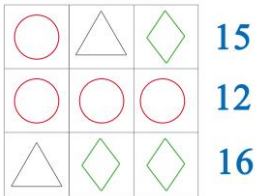

## «Марафон Знаний» (для учащихся 3-4 классов)


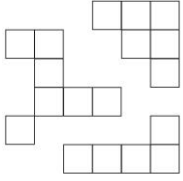



### Ответы

Ответ должен быть представлен строго в виде **ОДНОГО СЛОВА**, **БУКВЫ** или **ЧИСЛА** (согласно условию задания) без кавычек, точек, орфографических ошибок. Некоторые вопросы содержат подсказку – буквы ответа. Неверно записанные ответы не учитываются.

Задание №1		Ответ
<p><b>Математическая разминка</b></p> <p>В очереди билетами на фильм «Чебурашка» Маша стоит пятая, а Даша десятая. Сколько человек стоит между ними?</p> <p><i>В ответе запиши полученный результат</i></p>		4
<p><b>Задание №2</b></p> <p><b>Весёлые ребусы</b></p> <p>Разгадай наш весёлый ребус!</p> <p>-----</p> <p><i>В ответе напиши получившееся слово</i></p>		Подснежник
<p><b>Задание №3</b></p> <p><b>Я открываю космос</b></p> <p>Земля – это наша планета, пятая по величине в Солнечной системе. На поверхности нашей планеты больше воды, чем суши.</p> <p>Посмотри на нашу планету глазами космонавта из космоса! Какое изображение ты увидишь?</p> <p><i>В ответе укажи только номер выбранного варианта (1 или 2 или 3 или 4)</i></p>		3
<p><b>Задание №4</b></p> <p><b>Школьные загадки</b></p> <p>На рисунке изображена открытая тетрадка. В ее обложке два окошка. Какие три картинки будут видны, если тетрадку закрыть?</p> <p><i>В ответе укажи только номер выбранного варианта (1 или 2 или 3 или 4)</i></p>		2
<p><b>Задание №5</b></p> <p><b>Грамматическая математика</b></p> <p>Ребята любят играть в грамматическую математику и «собирать» слова. Попробуй и ты! Какое школьное слово у тебя получилось?</p> <p><b>ЗАКОЛКА – КОЛ + ДАЧА + БАН – КАБАН</b></p> <p><i>В ответе запиши получившееся слово</i></p>		задача

Задание №6		Ответ
<p align="center"><b>Игры со словами</b></p> <p>В слове <b>УДАР</b> переставили буквы и получили <b>РУДА</b>. Такая же перестановка букв была сделана в слове <b>СЕЛО</b>. Какое новое слово при этом получилось?</p> <p><i>В ответе запиши получившееся слово</i></p>		<b>Осел</b>
Задание №7		Ответ
<p align="center"><b>Путешествие по сказкам</b></p> <p>Кто является автором произведений про крокодила Гену и Чебурашку?</p> <ol style="list-style-type: none"> <li>1. Корней Чуковский</li> <li>2. Эдуард Успенский</li> <li>3. Шарль Перро</li> <li>4. Николай Носов</li> </ol> <p><i>В ответе укажи только номер выбранного варианта (1 или 2 или 3 или 4)</i></p>		<p align="center"><b>2</b> <b>Эдуард</b> <b>Успенский</b></p>
Задание №8		Ответ
<p align="center"><b>Найди лишнего</b></p> <p>Кто здесь лишний по способу передвижения?</p>  <p><i>В ответе укажи только номер выбранного варианта (1 или 2 или 3 или 4)</i></p>		<p align="center"><b>2</b> <b>Страус</b></p>
Задание №9		Ответ
<p align="center"><b>Азбука спорта</b></p> <p>Какой спортивный инвентарь понадобится для игры в баскетбол?</p> <p><i>В ответе укажи только номер выбранного варианта (1 или 2 или 3 или 4)</i></p>		<b>1</b>
Задание №10		Ответ
<p align="center"><b>Занимательная арифметика</b></p> <p>На рисунке одинаковые значки обозначают одинаковые числа, а разные значки – разные числа. Сумма чисел, стоящих в строчке, написана справа от нее. Какое число обозначает треугольник?</p> <p><i>В ответе запиши полученное число</i></p>		<p align="center"><b>6</b> <b>Треугольник – 6</b> <b>Круг – 4</b> <b>Ромб - 5</b></p>
Задание №11		Ответ
<p align="center"><b>В мире животных</b></p> <p>Некоторые представители водной среды для выведения потомства мечут икру. Другие откладывают яйца. А третьи вынашивают и производят живых детёнышей, как человек. Кто из этих существ появился на свет НЕ из икринки и НЕ из яйца?</p> <p><i>В ответе укажи только номер выбранного варианта (1 или 2 или 3 или 4)</i></p>		<p align="center"><b>3</b> <b>Дельфин</b></p>

<p align="center"><b>Задание №12</b></p>		<p align="center"><b>Ответ</b></p>
<p align="center"><i>Загадки окружающего мира</i></p> <p>Невероятно, но они могут иметь форму арки, крыла, купола, пирамиды, стола. Однако, несмотря на всю невероятную красоту, моряки их побаиваются. О каком природном явлении наш вопрос?</p> <p align="center">— й — — — —</p> <p><i>В ответе запиши название природного явления</i></p>		<p align="center"><i>Айсберг</i></p>
<p align="center"><b>Задание №13</b></p> <p align="center"><i>Потерянные квадраты</i></p> <p>Большой квадрат был составлен из 36 квадратиков, но несколько из них потерялось. Сколько квадратиков потеряно?</p> <p><i>В ответе запиши количество потерянных квадратиков</i></p>		<p align="center"><b>18</b></p>
<p align="center"><b>Задание №14</b></p> <p align="center"><i>Увлекательная география</i></p> <p>Вася выписал список морей. Какого моря не существует?</p> <ol style="list-style-type: none"> <li>1. Чёрное море</li> <li>2. Белое море</li> <li>3. Жёлтое море</li> <li>4. Синее море</li> <li>5. Море Лаптевых</li> </ol> <p><i>В ответе укажи только номер выбранного варианта (1 или 2 или 3 или 4 или 5)</i></p>		<p align="center"><b>4</b></p> <p align="center"><i>Синее море</i></p>
<p align="center"><b>Задание №15</b></p> <p align="center"><i>Математика вокруг нас</i></p> <p>Старуха Шапокляк о своём возрасте прямо не говорит. На вопрос, сколько ей лет, она ответила: «Если взять наибольшее двухзначное число, найти сумму его цифр, а затем результат сложить 3 раза, то получится столько, сколько было мне 23 года назад. Сколько мне лет сейчас?»</p> <p><i>В ответе запиши возраст Шапокляк</i></p>		<p align="center"><b>77</b></p> <p><i>Решение:</i></p> <p>1) сумма цифр числа 99 равна 18</p> <p>2) складываем 3 раза по 18.</p> <p><math>18+18+18=54</math> года – возраст Шапокляк 23 года назад</p> <p>3) <math>54+23=77</math> лет</p>
<p align="center"><b>Задание №16</b></p>		<p align="center"><b>Ответ</b></p>
<p align="center"><i>Животные в пословицах и поговорках</i></p> <p>Этот речной обитатель стал героем многих русских пословиц и поговорок. Из них можно узнать, что:</p> <ul style="list-style-type: none"> <li>– <b>ОН</b> пятится назад;</li> <li>– иногда <b>ОН</b> бывает красным;</li> <li>– никто не знает, где <b>ОН</b> зимует;</li> <li>– все ждут, когда <b>ОН</b> на горе свистнет.</li> </ul> <p>Найди <b>ЕГО</b> изображение.</p> <div style="text-align: center;">  </div> <p><i>В ответе укажи только номер выбранного варианта (1 или 2 или 3 или 4)</i></p>		<p align="center"><b>4</b></p> <p align="center"><i>Рак</i></p>

**Задание №17****Ответ*****Путешествие по России***

Какому весеннему празднику соответствует наше описание?

*Один из самых интересных, долгожданных, весёлых и самых «вкусных» праздников в году. Блины – главное блюдо праздника. В старину разводили костры и жгли соломенное чучело – символ зимы.*

----- а

***В ответе запиши название весеннего праздника***

***Масленица***

Уважаемые ребята, родители и координаторы!

Мы будем очень благодарны Вам за оставленный отзыв о конкурсе.

Нам очень важно знать ваше мнение о конкурсных заданиях. Что нового вы узнали, участвуя в конкурсе? Какие задания показались лёгкими? А какие самыми сложными? Что вам не понравилось? Хотели бы вы ещё участвовать в подобных конкурсах?

Ждём все Ваши предложения, пожелания и замечания на наши электронные адреса: [unikum.konkurs@yandex.ru](mailto:unikum.konkurs@yandex.ru) и [mir-konkursov2008@yandex.ru](mailto:mir-konkursov2008@yandex.ru)