

Международный математический конкурс




«Юный математик» (для учащихся 1 классов)



Ответы

Ответ должен быть представлен строго в виде **ОДНОГО ЧИСЛА** или **СЛОВА** (согласно условию задания) без кавычек, точек и других дополнительных символов. Неверно записанные ответы не учитываются.

Задание №1		Ответ
<p>В очереди за мороженым Маша стоит третья, а Даша седьмая. Сколько человек стоит между ними? <i>В ответе запиши полученный результат</i></p>		3
<p>Задание №2</p> <p>Вася фотографировал крольчонка раз в месяц: в феврале, в марте, в апреле, в мае. Получилось 4 фотографии, которые представлены на картинке. Какая фотография была сделана в мае?</p> <div style="text-align: center;"> </div> <p><i>В ответе запиши номер фотографии</i></p>		2
<p>Задание №3</p> <p>Для аппликации Маша разрежала мишуру в 5 местах. Сколько всего маленьких кусочков мишуры у неё получилось? <i>В ответе запиши полученное число</i></p>		6
<p>Задание №4</p> <p>У Маши 9 открыток с ёжиками и 11 открыток с котиками. 10 открыток Маша подарила Рите. Есть ли среди них открытки с котиками? 1. Да 2. Нет <i>В ответе укажи только номер выбранного варианта (1 или 2)</i></p>		1 Да
<p>Задание №5</p> <p>Продолжи заданную последовательность. Какая картинка окажется на месте знака вопрос?</p> <div style="text-align: center;"> </div> <div style="text-align: center;"> <p>1. 2. 3. </p> </div> <p><i>В ответе укажи только номер выбранного варианта (1 или 2 или 3)</i></p>		2
<p>Задание №6</p> <p>Для постройки снеговиков мальчики слепили 6 снежков. Два мальчика сделали по 2 снежка. А остальные – по одному. Сколько всего мальчиков лепило снежки? <i>В ответе запиши число мальчиков</i></p>		4

Задание №7		Ответ
<p>Маша загадала число. Если из количества дней в неделе вычесть число ушей у двух зайцев, то получится загаданное число. <i>Какое число загадала Маша?</i></p>		<p>3 7-4=3</p>
Задание №8		Ответ
<p>Вася написал цветными карандашами слово «ЗАГАДКА». Одинаковые буквы Вася записывал одним и тем же цветом, разные – разным цветом. Сколько цветных карандашей понадобилось Васе, чтобы написать это слово? <i>В ответе запиши только число карандашей</i></p>		<p>5</p>
Задание №9		Ответ
<p>Мама купила воздушные шарик и разделила их поровну между Машей и Матвеем. Маше достались шарик трёх разных цветов, каждого цвета по 2 штуки. Сколько всего шариков купила мама? <i>В ответе запиши общее число шариков</i></p>		<p>12 <i>Решение:</i> У Маши $2+2+2=6$ шариков. Значит, и у Матвея 6 шариков. Всего 12 шарика.</p>
Задание №10		Ответ
<p>Вася разложил 7 одинаковых мандаринов на три кучки так, что во всех кучках оказалось разное число мандаринов. Сколько мандаринов в самой большой кучке? <i>В ответе запиши число мандаринов в самой большой кучке</i></p>		<p>4 <i>Решение:</i> 7 мандаринов можно разложить на 3 разные кучки только следующим образом: $1+2+4 = 7$</p>
Задание №11		Ответ
<p>У бабушки живут несколько котов. У этих котов лап на 6 больше, чем хвостов. Сколько котов у бабушки? <i>В ответе запиши число котов</i></p>		<p>2 кота <i>Решение:</i> У 2-х котов 8 лап и 2 хвоста.</p>
Задание №12		Ответ
<p>На белой и синей тарелке лежат по 3 груши, а на жёлтой и синей тарелке лежат по 6 слив. Какая из тарелок является синей?</p> <div style="display: flex; justify-content: space-around; align-items: center;"> <div style="text-align: center;">  <p>тарелка 1</p> </div> <div style="text-align: center;">  <p>тарелка 2</p> </div> <div style="text-align: center;">  <p>тарелка 3</p> </div> </div> <p>1. тарелка 1 2. тарелка 2 3. тарелка 3 <i>В ответе укажи только номер выбранного варианта (1 или 2 или 3)</i></p>		<p>3 тарелка 3 <i>Решение:</i> 1) по 3 груши лежат на тарелке №1 и тарелке №3 2) по 6 слив лежит на тарелке №2 и тарелке №3. Отсюда заключаем, что тарелка №3 – синяя (3 груши и 6 слив) Тарелка №2 – жёлтая (4 груши и 6 слив) Тарелка №1 – белая (3 груши и 7 слив)</p>

Задание №13**Ответ**

В альбоме с раскрасками Маша раскрашивает каждый день по одной картинке. Первую картинку она раскрасила во вторник. В какой день недели Маша раскрасит пятую картинку?

1. в среду
2. в четверг
3. в пятницу
4. в субботу
5. в воскресенье

В ответе укажи только номер выбранного варианта (1 или 2 или 3 или 4 или 5)

4
в субботу

Уважаемые ребята, родители и координаторы!

Мы будем очень благодарны Вам за оставленный отзыв о конкурсе.

Нам очень важно знать ваше мнение о конкурсных заданиях. Что нового вы узнали, участвуя в конкурсе? Какие задания показались лёгкими? А какие самыми сложными? Что вам не понравилось? Хотели бы вы ещё участвовать в подобных конкурсах?

Ждём все Ваши предложения, пожелания и замечания на наши электронные адреса: unikum.konkurs@yandex.ru и mir-konkursov2008@yandex.ru