







**Международный межпредметный конкурс
«Путешествие в Мир Знаний»
(для учащихся 3-4 классов)**

Ответы

Ответ должен быть представлен строго в виде **ОДНОГО СЛОВА**, **БУКВЫ** или **ЧИСЛА** (согласно условию задания) без кавычек, точек, орфографических ошибок. Некоторые вопросы содержат подсказку – буквы ответа. Неверно записанные ответы не учитываются.

Задание №1		Ответ
<p align="center"><i>Занимательная логика</i></p> <p>Восстанови ряд на картинке справа. Какое число должно стоять вместо знака вопрос?</p>  <p><i>В ответе запиши только номер выбранного варианта (1 или 2 или 3 или 4)</i></p>		<p align="center">1 2221</p>
<p align="center">Задание №2</p> <p align="center"><i>Весёлые ребусы</i></p> <p>Отгадай ребусы.</p>  <p>Разгаданные слова – это:</p> <ol style="list-style-type: none"> 1. Названия городов 2. Названия рек 3. Названия птиц <p><i>В ответе укажи только номер выбранного варианта (1 или 2 или 3)</i></p>		<p align="center">3 названия птиц</p>
<p align="center">Задание №3</p> <p align="center"><i>В мире животных</i></p> <p>На этой картинке изображены разнообразные представители животного мира. Выбери животное, которое не несёт яиц.</p>  <p><i>В ответе напиши только номер выбранного варианта (1 или 2 или 3 или 4)</i></p>		<p align="center">2 Коала</p>
<p align="center">Задание №4</p> <p align="center"><i>Математическая разминка</i></p> <p>Ребята, посмотрите на картинку справа. Сумма чисел на каждой стороне квадрата одинакова. Расставьте в пустые клетки оставшиеся числа.</p>   <p>Какое число окажется в клетке со знаком вопрос?</p> <p><i>В ответе запиши только одно число</i></p>	<p align="center">4</p>	

Задание №5**Загадки окружающего мира**

Как только кое-где сходит снег, сразу же появляются первые весенние растения – белые, желтые, голубые. Найди на картинке цветок, который первым появляется на проталинах.



В ответе укажи только номер выбранного варианта (1 или 2 или 3 или 4)

Ответ

4
Подснежник

Задание №6**Весёлая математика**

Марина учится в школе. Если цифры в ее возрасте поменять местами, то получится возраст ее бабушки, которому больше 60 лет, но меньше 70 лет. **Сколько лет бабушке?**

В ответе запиши только возраст бабушки

Ответ**61**

Решение: Марине может быть только 16 лет, а бабушке – 61. Если поменять местами остальные цифры в числе из интервала от 60 до 70 (исключая 60 и 70), то мы не получим школьный возраст девочки.

Задание №7**Игры со словами**

Замени каждую букву на предшествующую ей по алфавиту и получи одно из самых радостных слов для школьников.



В ответе запиши получившееся слово

Ответ**Каникулы****Задание №8****Волшебные фигуры**

У Тани четыре стикера (на рисунке справа). Она наклеила их все один за другим. При этом звезду она наклеила позже, чем квадрат, но раньше, чем треугольник. Какая картинка получилась у Тани?



В ответе укажи только номер выбранного варианта (1 или 2 или 3 или 4 или 5)

**Ответ****5****Задание №9****Я открываю космос**

Догадайся, названия какой планеты не хватает в нашем списке?

Меркурий, Венера, Марс, Юпитер, Сатурн, Земля, Нептун

В ответе запиши название планеты

Ответ**Уран**

Задание №10**Обитатели морского царства**

От некоторых представителей морских глубин лучше держаться подальше. Даже если их вид заманчив и красив. Они, конечно, тебя не съедят, но причинить вред могут.

Рассмотри картинку и среди небезвредных существ определи **безопасного** для человека морского жителя.



В ответе укажи только номер выбранного варианта (1 или 2 или 3 или 4)

Ответ

3
Морской конёк

Задание №11**Азбука безопасности**

*Вот поле чудес, закопай здесь свои денежки,
наутро вырастет дерево
с золотыми червонцами*

Мошенники обманывают людей, обещая лёгкие и быстрые деньги. Какой сказочный персонаж таким образом был обведён вокруг носа и обворован?

В ответе запиши имя сказочного персонажа

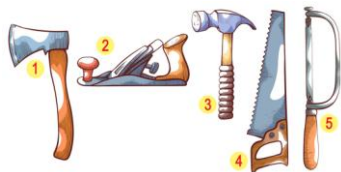
Ответ

Буратино

Задание №12**Русские народные сказки**

Каши бывают гречневыми, рисовыми, овсяными, сытными, молочными и даже с комочками. Но оказывается, из столярных инструментов тоже можно приготовить вкусное блюдо.

Их какого инструмента сварила кашу скупая старушка для находчивого солдата?



В ответе укажи только номер выбранного варианта (1 или 2 или 3 или 4 или 5)

Ответ

1
топор

Задание №13**Увлекательная география**

Вася выписал список морей. Какого моря не существует?

1. Чёрное море
2. Белое море
3. Жёлтое море
4. Синее море
5. Море Лаптевых

В ответе укажи только номер выбранного варианта (1 или 2 или 3 или 4 или 5)

Ответ

4
Синее море

Задание №14**Знарок фразеологизмов**

Название этого животного достаточно распространено в русских фразеологизмах.

Прочитай фразы и определи участника всех этих устойчивых выражений.

Как ... наплакал

Тянуть ... за хвост

Купить ... в мешке

Суп с ...

В ответе укажи только номер выбранного варианта (1 или 2 или 3 или 4)

**Ответ**

3
кот

Задание №15**В мире профессий**

Его смело можно назвать звёздным бухгалтером. Человек этой профессии всё время пересчитывает звёзды на небе, чтобы удостовериться, что все они на своих местах.

— — — — **о** — — — —

В ответе запиши название профессии

**Ответ**

Астроном

Задание №16**Финансовая математика**

Сказочная Муха Цокотуха решила не покупать самовар, а положить найденные деньги в банк под проценты. Помогите Цокотухе определить, в каком банке выгоднее сделать вклад.

Банк № 1: вложив 2000 руб. – через 5 месяцев получаешь 3000 рублей.

Банк № 2: вложив 2000 руб. – через 6 месяцев получаешь 3100 рублей.

1. В банк № 1

2. В банк № 2

В ответе укажи только номер выбранного варианта (1 или 2)

Ответ

1

Задание №17**Занимательная головоломка**

На картинке справа изменили цвет каждой клеточки: белый – на серый, и наоборот. Что получилось?



1



2



3



4

В ответе укажи только номер выбранного варианта (1 или 2 или 3 или 4)

Ответ

4

Оценка ответов на вопросы конкурса:

- за каждый правильный ответ на задания с 1 по 2 – 5 баллов

- за каждый правильный ответ на задания с 3 по 17 – 6 баллов