

Всероссийский интеллектуальный конкурс

«Я открываю Мир логики»

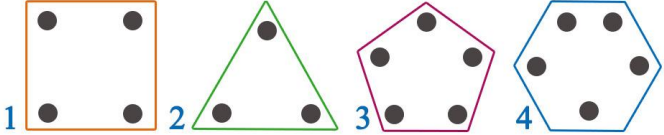


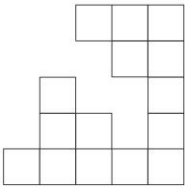

(для учащихся 1-2 классов)



Ответы


Ответ должен быть представлен строго в виде **ОДНОГО СЛОВА**, **БУКВЫ** или **ЧИСЛА** (согласно условию задания) без кавычек, точек, орфографических ошибок. Неверно записанные ответы не учитываются.

Задание №1		Ответ
<p>На каком рисунке кружочек расположен выше квадрата и правее звездочки?</p> <p><i>В ответе укажи только номер рисунка</i></p>		3
Задание №2		Ответ
<p>На столе лежат 4 бумажных круга (см. рисунок). Сколько из этих кругов проколется гвоздик, если его воткнуть в отмеченную точку?</p> <p><i>В ответе число проколотых кругов</i></p>		3
Задание №3		Ответ
<p>Какое слово зашифровано в ребусе?</p> <p>— — — — —</p> <p><i>В ответе запишите получившееся слово</i></p>		Завод
Задание №4		Ответ
<p>Что может вырасти на дереве и на лбу?</p> <ol style="list-style-type: none"> ветка гриб шишка цветок <p><i>В ответе укажи только номер выбранного варианта (1 или 2 или 3 или 4)</i></p>		3 шишка
Задание №5		Ответ
<p>На четырех рисунках показана левая рука, а на одном – правая. На каком рисунке правая рука?</p> <p><i>В ответе укажи только номер рисунка</i></p>		3
Задание №6		Ответ
<p>У чего не бывает крышки?</p> <ol style="list-style-type: none"> у кастрюли у чайника у шкатулки у избушки <p><i>В ответе укажи только номер выбранного варианта (1 или 2 или 3 или 4)</i></p>		4 у избушки
Задание №7		Ответ
<p>Вася клеит на ленту наклейки четырех видов (в одном и том же порядке). Какую наклейку он разместит в десятой клеточке?</p> <p><i>В ответе укажи только номер выбранного варианта (1 или 2 или 3 или 4)</i></p>		2

Задание №8		Ответ
<p>Маша разделила шоколадку на 4 равных кусочка. Половину она оставила себе, а 2 кусочка отдала Даше. Кому досталось больше шоколадки?</p> <p>1. Маше 2. Даше 3. Одинаково</p> <p><i>В ответе укажи только номер выбранного варианта (1 или 2 или 3)</i></p>		<p>3 Одинаково</p>
Задание №9		Ответ
<p>Выбери лишнюю фигуру.</p>  <p>1 2 3 4</p> <p><i>В ответе укажи только номер выбранного варианта (1 или 2 или 3 или 4)</i></p>		<p>4</p>
Задание №10		Ответ
<p>Бабушка купила внуку игрушку. Известно, что игрушка красного цвета и не имеет окон. Какую игрушку бабушка подарит внуку?</p> <p><i>В ответе укажи только номер выбранного варианта (1 или 2 или 3 или 4 или 5)</i></p>		<p>3 мяч</p>
Задание №11		Ответ
<p>Ребята, посмотрите на картинку. Весы находятся в равновесии. Что весит больше – одно яблоко или один апельсин?</p> <p>1. Яблоко 2. Апельсин 3. Одинаково</p> <p><i>В ответе укажите только номер выбранного варианта (1 или 2 или 3)</i></p>		<p>2 Апельсин</p>
Задание №12		Ответ
<p>Большой квадрат был составлен из 25 квадратиков, но несколько из них потерялось. Сколько квадратиков потеряно?</p> <p><i>В ответе запиши число потерянных квадратиков</i></p>		<p>10</p>
Задание №13		Ответ
<p>Фигурки на рисунке обозначают цифры. Одинаковым фигуркам соответствуют одинаковые цифры. Какую цифру обозначает звёздочка?</p> <p><i>В ответе запишите число под звёздочкой</i></p>		<p style="text-align: center;">4</p> <p><i>Решение: из второго примера треугольник равен 2. Тогда круг равен 1. А квадрат равен 3. Значит, звёздочка равна 1+3=4</i></p>

Задание №14**Ответ**

Распредели игрушки по коробкам, если известно, что все подсказки на коробках ложные. Какая игрушка окажется в коробке с надписью «Снегирь»?



1. Утка
2. Снегирь
3. Лиса

В ответе укажи только номер выбранного варианта (1 или 2 или 3)

1
Утка

Уважаемые ребята, родители и координаторы!

Мы будем очень благодарны Вам за оставленный отзыв о конкурсе.

Нам очень важно знать ваше мнение о конкурсных заданиях. Что нового вы узнали, участвуя в конкурсе? Какие задания показались лёгкими? А какие самыми сложными? Что вам не понравилось? Хотели бы вы ещё участвовать в подобных конкурсах?

Ждём все Ваши предложения, пожелания и замечания на наши электронные адреса: unikum.konkurs@yandex.ru и mir-konkursov2008@yandex.ru