

## II Международный интеллектуальный конкурс


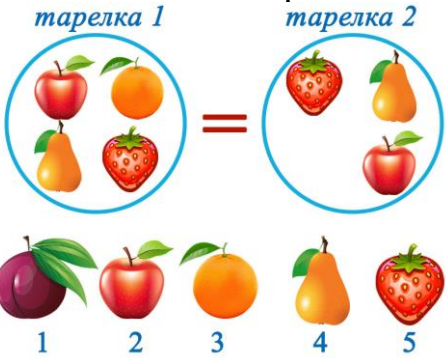

### «Математика вокруг нас»









(для дошкольников)



### Ответы

Ответ должен быть представлен строго в виде **ОДНОГО ЧИСЛА** или **СЛОВА** (согласно условию задания) без кавычек, точек и других дополнительных символов. Неверно записанные ответы не учитываются.

Задание №1		Ответ
Яна сложила число дней в неделе и количество букв в своем имени. <i>Какое число у нее получилось?</i>		10 $7+3$
Задание №2		Ответ
Три зайчика сорвали с грядки по 3 морковки каждый. Сколько всего морковок сорвали зайчата? <i>В ответе запиши общее число морковок</i>		9
Задание №3		Ответ
Ребята, помогите разделить 12 яблок поровну между тремя ёжиками. Сколько яблок достанется каждому ёжику? <i>В ответе запиши число яблок у каждого ёжика</i>		4 $4+4+4=12$
Задание №4		Ответ
Какого фрукта не хватает на 2 тарелке?  <i>В ответе укажи только номер выбранного варианта (1 или 2 или 3 или 4 или 5)</i>		3 Апельсин
Задание №5		Ответ
У Зайца есть 10 морковок, а у Ёжика только 6. Сколько морковок Заяц может отдать Ёжику, чтобы морковок у них стало поровну? <i>В ответе запиши только число морковок</i>		2
Задание №6		Ответ
Продолжи заданную последовательность. Какая фигура окажется на месте знака вопрос?  <i>В ответе укажи только номер выбранного варианта (1 или 2)</i>		1

<b>Задание №7</b>		<b>Ответ</b>
<p>Ребята, посмотрите на картинку справа. Какая фигура расположена между фигурами зеленого цвета?</p> <div style="display: flex; justify-content: space-around; align-items: center;"> <div style="text-align: center;"> 1</div> <div style="text-align: center;"> 2</div> <div style="text-align: center;"> 3</div> <div style="text-align: center;"> 4</div> </div> <p><i>В ответе укажи только номер выбранного варианта (1 или 2 или 3 или 4)</i></p>		<p>2 Круг</p>
<b>Задание №8</b>		<b>Ответ</b>
<p>Белочка нашла 5 грибочков, Ёжик принёс ещё 6 грибов. А в лукошке помещается ровно 10 грибов. Смогут ли зверята поместить весь собранный урожай в лукошко?</p> <p>1. Смогут 2. Не смогут</p> <p><i>В ответе укажи только номер выбранного варианта (1 или 2)</i></p>		<p>2 Не смогут</p>
<b>Задание №9</b>		<b>Ответ</b>
<p>Посмотри на картинки. Одно яблоко весит как 2 грибочка. А маленький ёжик весит как 4 грибочка. Определи вес ёжика в яблоках.</p> <div style="text-align: center;"></div> <p><i>В ответе запиши вес ёжика в яблоках</i></p>		<p>2</p>
<b>Задание №10</b>		<b>Ответ</b>
<p>Лестница в лесном теремке состоит из 7 ступенек. На какую по счёту ступеньку Лисёнку нужно встать, чтобы оказаться ровно на середине лестницы?</p> <p><i>В ответе запишите число (номер ступеньки)</i></p>		<p>4</p>
<b>Задание №11</b>		<b>Ответ</b>
<p>Маша обвела красным фломастером все предметы на картинке, которые начинаются на букву «м», а синим фломастером все съедобные предметы. Сколько предметов Маша обвела двумя цветами?</p> <div style="text-align: center;"></div> <p><i>В ответе запишите число предметов</i></p>		<p>3 морковь, малина, мороженое</p>
<b>Задание №12</b>		<b>Ответ</b>
<p>Ребята, посмотрите на картинку. Вася собрал из кубиков лесенку из 3-х ступенек. Для этого он использовал 6 кубиков. Сколько ещё кубиков нужно добавить Васе, чтобы у его лесенки было 4 ступеньки?</p> <p><i>В ответе запиши только число дополнительных кубиков.</i></p>		<p>4 кубика</p>