










## II Международный интеллектуальный конкурс

### «Математика вокруг нас» (для учащихся 1 классов)

#### Ответы

Ответ должен быть представлен строго в виде **ОДНОГО ЧИСЛА** или **СЛОВА** (согласно условию задания) без кавычек, точек и других дополнительных символов. Неверно записанные ответы не учитываются.

<b>Задание №1</b>		<b>Ответ</b>
<p>Маша сложила количество дней в неделе и число месяцев в году. <i>Какое число у нее получилось?</i></p>		<p><b>19</b> <b>7+12</b></p>
<b>Задание №2</b>		<b>Ответ</b>
<p>Четыре зайчика сорвали с грядки по 2 морковки каждый. Сколько всего морковок сорвали зайчата? <i>В ответе запиши общее число морковок</i></p>		<p><b>8</b></p>
<b>Задание №3</b>		<b>Ответ</b>
<p>Ребята, посмотрите на картинку справа. Какая фигура расположена между фигурами зеленого цвета?</p> <div style="display: flex; justify-content: space-around; align-items: center;"> <div style="text-align: center;"> <b>1</b></div> <div style="text-align: center;"> <b>2</b></div> <div style="text-align: center;"> <b>3</b></div> <div style="text-align: center;"> <b>4</b></div> </div> <p><i>В ответе укажи только номер выбранного варианта (1 или 2 или 3 или 4)</i></p>		<p><b>2</b> <b>Круг</b></p>
<b>Задание №4</b>		<b>Ответ</b>
<p>Лестница в лесном теремке состоит из 9 ступенек. На какую по счёту ступеньку Лисёнку нужно встать, чтобы оказаться ровно на середине лестницы? <i>В ответе запишите число (номер ступеньки)</i></p>		<p><b>5</b></p>
<b>Задание №5</b>		<b>Ответ</b>
<p>Какие электронные часы показывают такое же время как часы со стрелками?</p> <div style="display: flex; justify-content: space-around; align-items: center;"> <div style="text-align: center;"> <b>1</b></div> <div style="text-align: center;"> <b>2</b></div> <div style="text-align: center;"> <b>3</b></div> </div> <p><i>В ответе укажи только номер выбранного варианта (1 или 2 или 3)</i></p>		<p><b>2</b> <b>11:40</b></p>
<b>Задание №6</b>		<b>Ответ</b>
<p>Продолжи заданную последовательность. Какой набор фигур окажется на месте знака вопрос?</p> <div style="display: flex; justify-content: center; align-items: center; gap: 10px;"> <span style="color: red;">○</span> <span style="color: yellow;">△</span> <span style="color: green;">□</span> <span style="color: red;">○</span> <span style="color: yellow;">△</span> <span style="color: green;">□</span> <span style="font-size: 2em;">?</span> </div> <div style="display: flex; justify-content: space-around; margin-top: 10px;"> <div style="text-align: center;"><span style="color: yellow;">△</span> <span style="color: green;">□</span> <span style="color: red;">○</span> <b>1</b></div> <div style="text-align: center;"><span style="color: red;">○</span> <span style="color: yellow;">△</span> <span style="color: green;">□</span> <span style="color: green;">□</span> <span style="color: red;">○</span> <span style="color: yellow;">△</span> <b>2</b></div> <div style="text-align: center;"><span style="color: green;">□</span> <span style="color: red;">○</span> <span style="color: yellow;">△</span> <b>3</b></div> </div> <p><i>В ответе укажи только номер выбранного варианта (1 или 2 или 3)</i></p>		<p><b>2</b></p>

**Задание №7**

Пятачок решил купить торт ко дню рождения Винни-Пуха за 17 рублей. Продавец сделал Пятачку скидку, и он заплатил за торт на 5 рублей меньше. Сколько Пятачок заплатил за торт?

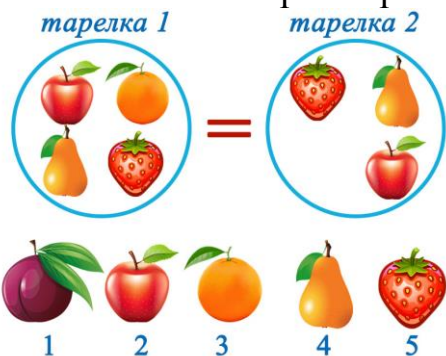
*В ответе запиши стоимость торта*

**Ответ**

12

**Задание №8**

Какого фрукта не хватает на второй тарелке?



*В ответе укажи только номер выбранного варианта (1 или 2 или 3 или 4 или 5)*

**Ответ**3  
Апельсин**Задание №9**

Белочка нашла 5 грибочков, Ёжик принёс ещё 7 грибов. А в лукошке помещается ровно 10 грибов. Смогут ли зверята поместить весь собранный урожай в лукошко?

1. Смогут
2. Не смогут

*В ответе укажи только номер выбранного варианта (1 или 2)*

**Ответ**2  
Не смогут**Задание №10**

Посмотри на картинки. Одно яблоко весит как 2 грибочка. А маленькая лисичка весит как 6 грибочков. Определи вес лисички в яблоках.



*В ответе запиши вес лисички в яблоках*

**Ответ**

3

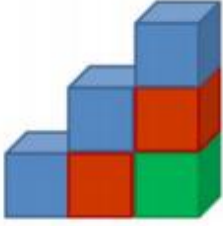
**Задание №11**

Маша обвела красным фломастером все предметы на картинке, которые начинаются на букву «м», а синим фломастером все съедобные предметы. Сколько предметов Маша обвела двумя цветами?



*В ответе запишите число предметов*

**Ответ**3  
морковь,  
малина,  
мороженое

<b>Задание №12</b>		<b>Ответ</b>
<p>У бабушки Белки 9 шишек. Когда она раздала каждому внуку-бельчонку по 2 шишки, то у неё осталась одна шишка. Сколько внуков у бабушки?</p> <p><i>В ответе запиши количество внуков</i></p>		<b>4</b>
<b>Задание №13</b>		<b>Ответ</b>
<p>Ребята, посмотрите на картинку. Вася собрал из кубиков лесенку из 3-х ступенек. Для этого он использовал 6 кубиков. Сколько ещё кубиков нужно добавить Васе, чтобы у его лесенки было 5 ступенек?</p> <p><i>В ответе запиши только число дополнительных кубиков</i></p>		<p style="text-align: center;"><b>9</b></p> <p><i>Пояснение: Для 4-ой ступеньки нужно добавить 4 кубика, а для 5-ой – 5 кубиков. Итого: 4+5=9</i></p>

Уважаемые ребята, родители и координаторы!

Мы будем очень благодарны Вам за оставленный отзыв о конкурсе.

Нам очень важно знать ваше мнение о конкурсных заданиях. Что нового вы узнали, участвуя в конкурсе? Какие задания показались лёгкими? А какие самыми сложными? Что вам не понравилось? Хотели бы вы ещё участвовать в подобных конкурсах?

Ждём все Ваши предложения, пожелания и замечания на наши электронные адреса: [unikum.konkurs@yandex.ru](mailto:unikum.konkurs@yandex.ru) и [mir-konkursov2008@yandex.ru](mailto:mir-konkursov2008@yandex.ru)