


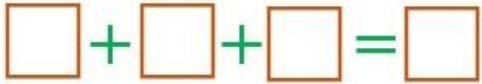
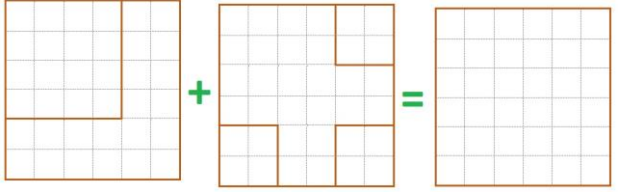
Международный математический конкурс



«Знатор математики»

(для учащихся 1-2 классов)

Задания

Ответ должен быть представлен строго в виде **ОДНОГО СЛОВА** или **ОДНОГО ЧИСЛА** без кавычек, точек, орфографических ошибок в именительном падеже и единственном числе. Неверно записанные ответы не учитываются.

1.	Дедушка ходил за грибами и возвращался из лесу в город. А навстречу ему по тропинке шли ещё два дедушки. Сколько всего дедушек шли из лесу? Запиши это число в ответе.	
2.	Магазин за день продал 10 диванов. В машину, на которой мебель отвозят покупателям, уместается всего 3 дивана. Сколько раз водителю придётся загружать диваны для доставки? Запиши это число в ответе.	
3.	Запиши ответы цифрами и найди сумму этих трёх чисел. 1. Это самое маленькое двузначное число. 2. У Кати два яблока, 2 половинки и 4 четвертинки. Сколько яблок у Кати? 3. Посадили 3 ели, 2 куста роз, 2 берёзы и 2 дуба. Сколько всего деревьев посадили? Запиши сумму этих чисел в ответе.	
4.	Витя, Петя и Миша сажали деревья: яблоню, грушу и вишню. Витя не сажал яблоню и вишню. Петя посадил вишню. Какое дерево посадил Миша? Запиши номер выбранного варианта в ответе. 1) яблоню 2) грушу 3) вишню	
5.	У Кати есть два стёклышка, на которых она нарисовала квадраты. Затем Катя соединила свои стёклышки (как показано на рисунке). Сосчитай, сколько всего квадратов получилось после соединения? Запиши полученное число в ответе.	
6.	У Ани 8 конфет. Она дала своей подруге Юле 2 конфеты. Затем несколько конфет Аня съела. Сколько конфет съела Аня, если у неё осталось 4 конфеты? Запиши это число в ответе.	

<p>7.</p>	<p>У Серёжи в ящике 7 пар одинаковых зелёных перчаток. Он хочет достать не глядя пару перчаток <i>(на левую руку и на правую)</i>.</p> <p>Сколько перчаток надо вытащить Серёже, если ему совсем не везёт и попадаются не те перчатки. <i>Вынутые перчатки Серёжа обратно не кладёт.</i></p>	
<p>8.</p>	<p>У какого трёхзначного числа сумма цифр равна 1? Запиши это число в ответе.</p>	
<p>9.</p>	<p>В семье несколько детей. Один ребёнок сказал, что у него есть два брата и сестра, а другой – что у него нет сестёр.</p> <p>Сколько детей в этой семье? Запиши это число в ответе.</p>	
<p>10.</p>	<p>В автобусе ехали пассажиры. На остановке в него вошли ещё 2 пассажира, а 3 вышли. Теперь в нём 10 пассажиров.</p> <p>Сколько пассажиров было в автобусе с самого начала? Запиши это число в ответе.</p>	
<p>11.</p>	<p>Петя, Миша, Женья и Ваня живут в четырёхэтажном доме. Петя живёт выше Миши, но ниже Жени. Ваня живёт сразу под Мишей. Определи, кто на каком этаже живёт?</p> <p>Запиши в ответе имя мальчика, который живёт на третьем этаже.</p>	
<p>12.</p>	<p>Бабушка купила табуретки. Некоторые из них были с тремя ножками, а другие с четырьмя. Ножек всего оказалось 14.</p> <p>Сколько было трёхногих табуреток? Запиши это число в ответе.</p>	