
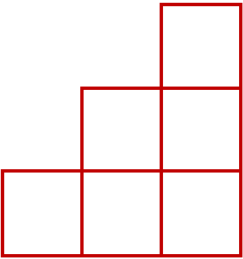






















































Международный турнир «Математические ступеньки» (для учащихся 1 класса)

Задания

Ответ должен быть представлен строго в виде **ОДНОГО ЧИСЛА** без кавычек, точек, орфографических ошибок в именительном падеже и единственном числе. Неверно записанные ответы не учитываются.

1.	Сложите количество букв в трёх словах: СОЛНЦЕ, ДОЖДЬ, РАДУГА . Запишите полученное число в ответе.																												
2.	Догадайтесь, какие числа прячутся за буквами. Запишите в ответе то число, которое скрывается за буквой Б.	$A+B+A = 5$ $A+A+A+A = 4$																											
3.	Сколько целых яблок можно составить из 8 половинок? Запишите это число в ответе.																												
4.	Маша съедает каждый день по одной морковке. Сколько морковок ей нужно на неделю? Запишите это число в ответе.																												
5.	Что тяжелее 3 кг гвоздей или 3 кг пуха? Запишите номер выбранного варианта в ответе. 1) 3 кг пуха 2) 3 кг гвоздей 3) одинаково																												
6.	Сосчитайте, сколько квадратов на рисунке? Запишите это число в ответе.																												
7.	В хоровод встали 8 ребят. Сосчитайте, сколько промежутков между ними. Запишите полученное число в ответе.																												
8.	Из-под забора видно 12 кошачьих лап. Догадайтесь, сколько кошек за забором? Запишите это число в ответе.																												
9.	Сколько одинаковых палочек нужно взять, чтобы сложить из них квадрат? Запишите это число в ответе.																												
10.	Догадайтесь, что забыли положить на полку? Запишите номер выбранного варианта в ответе.	<table border="1"><tr><td></td><td></td><td></td></tr><tr><td></td><td></td><td></td></tr><tr><td></td><td></td><td></td></tr></table> <table border="1"><tr><td></td><td></td><td></td><td></td><td></td><td></td><td></td><td></td><td></td></tr><tr><td>1</td><td>2</td><td>3</td><td>4</td><td>5</td><td>6</td><td>7</td><td>8</td><td>9</td></tr></table>																			1	2	3	4	5	6	7	8	9
																													
																													
																													
																													
1	2	3	4	5	6	7	8	9																					

11.	В электричке было 10 вагонов. Каким по счету будет пятый вагон, если считать вагоны с конца? Запишите полученное число в ответе.
12.	<p>У Миши, Саши и Паши кепки разных цветов. У Миши не красная и не синяя кепка. У Саши не красная и не зелёная кепка. Догадайтесь, какого цвета кепка у Паши. Запишите номер выбранного варианта в ответе.</p> <p style="text-align: center;">1) зелёная 2) красная 3) синяя</p>
13.	Бабушка посадила в понедельник 1 куст роз, во вторник - 2 куста роз, в среду – 3 куста роз, а в четверг – 4 куста роз. Сколько всего кустов роз посадила бабушка? Запишите полученное число в ответе.