

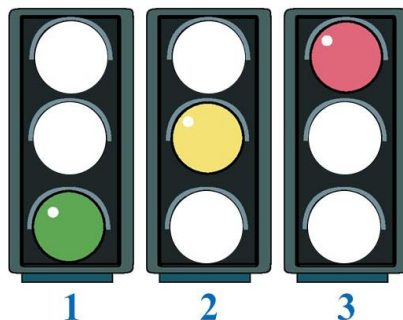
**VII Всероссийская викторина
«Уроки безопасности»
(для учащихся 1-2 классов)**

Задания

Ответ должен быть представлен строго в виде **ОДНОГО СЛОВА, БУКВЫ** или **ЧИСЛА** (согласно условию задания) без кавычек, точек, орфографических ошибок. Некоторые вопросы содержат подсказку – буквы ответа. Букву «ё» можно писать как «ё» или как «е». Неверно записанные ответы не учитываются.

Задание №1

Отгадай, какой сигнал нам говорит: «Вы стойте – путь закрыт!»



В ответе напиши только номер выбранного варианта (1 или 2 или 3)

Задание №2

Есть несколько способов, чтобы быть бодрым и здоровым. И один из них – правильное питание. А ты знаешь, что означает «правильное питание»?

1. Есть больше чипсов и пить много газировки
2. Есть много конфет
3. Есть больше фруктов, овощей и полезных продуктов

В ответе укажи только номер выбранного варианта (1 или 2 или 3)

Задание №3

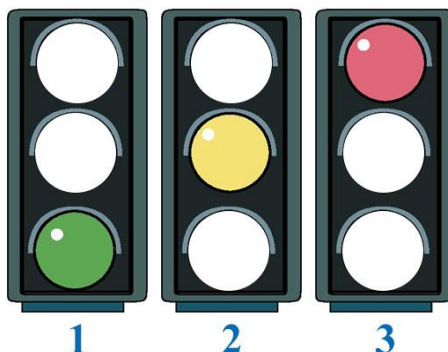
Для собственной безопасности правила дорожного движения нужно знать каждому! А ты уже с ними знаком? Найди картинку, где изображен знак «Пешеходный переход».



В ответе укажи только номер выбранного варианта (1 или 2 или 3 или 4)

Задание №4


Отгадай, какой сигнал нам говорит: «Проходите – путь открыт!»



В ответе напиши только номер выбранного варианта (1 или 2 или 3)

Задание №5

Остановка общественного транспорта обозначается знаком



1

2

3

4

В ответе укажи только номер выбранного варианта (1 или 2 или 3 или 4)

Задание №6


Кто работает рядом с этим дорожным знаком?



В ответе укажи только номер выбранного варианта (1 или 2 или 3)

Задание №7

Какое транспортное средство следует пропустить пешеходу, даже если на пешеходном переходе горит зелёный сигнал светофора?



1

2

3

В ответе укажи только номер выбранного варианта (1 или 2 или 3)

Задание №8

Возникновение пожаров от электроприборов.

Сосчитай все рисунки, на которых изображены электроприборы.



В ответе запиши количество электроприборов

Задание №9

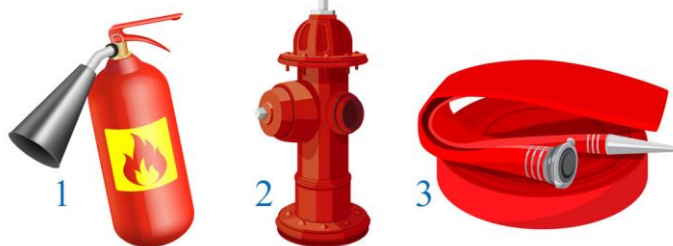
Как называется разметка наземного пешеходного перехода?

1. Тигра
2. Зебра
3. Кобра

В ответе укажи только номер выбранного варианта (1 или 2 или 3)

Задание №10

Найди на картинке переносное (ручное) средство защиты от огня в помещении, транспорте.



В ответе напиши только номер выбранного варианта (1 или 2 или 3)

Задание №11

Если дома появляется сильный дым, набери на телефоне номер ...



В ответе напиши только номер выбранного варианта (1 или 2 или 3)

Задание №12

Что обязательно нужно мыть с мылом перед едой?

— — — —

В ответе запиши только одно слово

Задание №13

Как называется часть дороги, по которой тебе как пешеходу запрещено двигаться?

1. Проезжая часть
2. Тротуар
3. Пешеходная дорожка

В ответе укажи только номер выбранного варианта (1 или 2 или 3)

Задание №14

Домашняя аптечка

Этот предмет мы используем для обёртывания ран. Он имеет белый цвет, изготавливается из хлопка, очень часто используется врачами.



— — — —

В ответе запиши только одно слово

Задание №15

Определи неверное утверждение.

1. Опасно прыгать в сугроб: под снегом могут находиться осколки стекла, проволока, мусор
2. В сильный мороз нужно много гулять, так как морозный воздух полезен для здоровья
3. На улице нужно держаться подальше от домов: с крыши может упасть сосулька и обвалиться снег

В ответе укажи только номер выбранного варианта (1 или 2 или 3)

Задание №16

Что может обезопасить пешехода на дороге?

1. Смелость и уверенность в своих силах
2. Внимание и соблюдение Правил дорожной безопасности
3. Быстрота реакции и быстрое передвижение через проезжую часть

В ответе укажи только номер выбранного варианта (1 или 2 или 3)

Задание №17


Нужно ли пассажиру быть пристёгнутым в легковом автомобиле?

1. Пассажир может ехать пристёгнутым, а может и не пристёгиваться – на его усмотрение
2. Нужно: если пассажир не пристегнут, то при резком торможении можно сильно удариться, получить травму
3. Не нужно: если пассажир пристегнут, то он ограничен в движениях в салоне автомобиля

В ответе укажи только номер выбранного варианта (1 или 2 или 3)

Задание №18

Рассмотри рисунки. На каком из них изображён пассажир, нарушающий правила поведения в салоне транспортного средства?



В ответе укажи только номер выбранного варианта (1 или 2 или 3)

Уважаемые ребята, родители и координаторы!

Мы будем очень благодарны Вам за оставленный отзыв о конкурсе.

Нам очень важно знать ваше мнение о конкурсных заданиях. Что нового вы узнали, участвуя в конкурсе? Какие задания показались лёгкими? А какие самыми сложными? Что вам не понравилось? Хотели бы вы ещё участвовать в подобных конкурсах?

Ждём все Ваши предложения, пожелания и замечания на наши электронные адреса: unikum.konkurs@yandex.ru и mir-konkursov2008@yandex.ru