

Международный интеллектуальный турнир
«В мире загадок, ребусов, головоломок»
(для учащихся 3-4 классов)



Задания

Ответ должен быть представлен строго в виде **ОДНОГО СЛОВА**, **БУКВЫ** или **ЧИСЛА** (согласно условию задания) без кавычек, точек, орфографических ошибок. Некоторые вопросы содержат подсказку – буквы ответа. Букву «ё» можно писать как «её» или как «е». Неверно записанные ответы не учитываются.

Задание №1

Зачеркни в предложении одну букву и запиши получившееся слово.

ПЕЙ СОК

В ответе запиши получившееся слово

Задание №2

Отгадай загадку!

*На самом перекрёстке
Висит колдун трёхглазый,
Но никогда не смотрит
Тремя глазами сразу.*

В ответе запиши отгадку

Задание №3


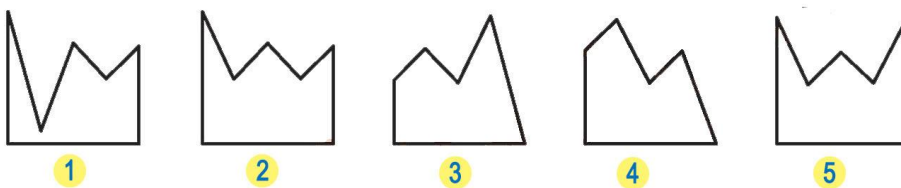
Разгадай ребус. Запиши слово (название цветка).



В ответе запиши получившееся слово

Задание №4

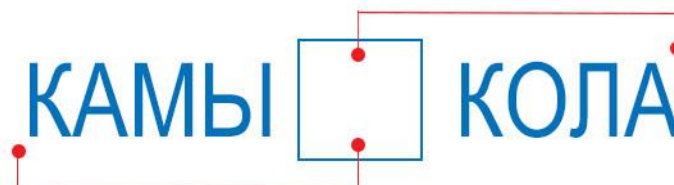
Какую фигуру надо добавить к закрашенной фигуре справа, чтобы получить квадрат?



В ответе укажи только номер выбранного варианта (1 или 2 или 3 или 4 или 5)

Задание №5

Вставь в пустую клеточку букву: для одного слова это последняя буква, для другого – первая.



В ответе запиши только одну букву

Задание №6

Отгадай загадку!

Тридцать три сестрички

Ростом невелички.

Если знаешь их секрет,

То на всё найдёшь ответ.

В ответе запиши отгадку

Задание №7

Буквы-близнецы

Одна и та же буква стёрлась в начале и в конце слова. Восстанови слово.

 Т Р А У

Разгаданное слово это:

1. Название птицы

2. Название города

3. Название реки

4. Название растения

В ответе укажи только номер выбранного варианта (1 или 2 или 3 или 4)

Задание №8

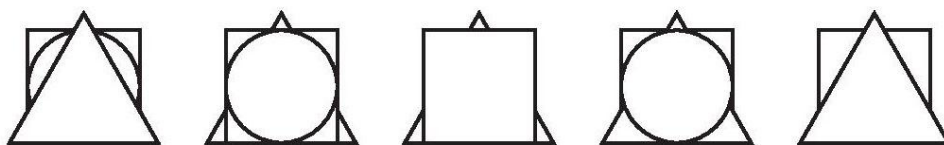
Разгадай ребус с названием средства индивидуальной защиты. Запиши получившееся слово.

В ответе запиши получившееся слово



Задание №9

На рисунке изображено пять стопок картонных карточек. В каждой стопке три карточки: квадратная, треугольная и круглая. В скольких стопках треугольная карточка лежит ниже квадратной?



В ответе запиши количество стопок

Задание №10

Лишняя буква

Мы загадали слово. Разгадай каждую букву по отдельности и впиши её в нужную клеточку.

1. Есть в слове КРЕСЛО, но нет в слове РЕМЕСЛО.

2. Есть в слове МЕТЛА, но нет в слове ТЕМА.

3. Есть в слове КОРОВА, но нет в слове КРОВЛЯ.

4. Есть в слове АИСТ, но нет в слове ТИШИНА.

5. Есть в слове САПОГ, но нет в слове ПОГАНКА.

1	2	3	4	5

В ответе запиши получившееся слово

Задание №11

Отгадай загадку!

Три стороны и три угла.

Узнает каждый школьник:

Фигура называется...

Конечно, ...!

В ответе запиши название геометрической фигуры

Задание №12

Чтобы открыть секретные двери, нужно заполнить четырьмя магическими предметами таблицу так, чтобы в каждой строчке и каждом столбце встречался каждый из предметов один раз. Потап начал заполнять таблицу. Какой предмет он должен поставить в клетку, отмеченную знаком вопроса?



	?		

В ответе укажи только номер выбранного варианта (1 или 2 или 3 или 4)

Задание №13

Волшебная буква

Помоги Лягушонку придумать, какой ОДНОЙ буквой можно заменить ВСЕ выделенные буквы в столбце, чтобы получились новые слова.

БАНК _АНК
ЛЕНЬ _ЕНЬ
ФОРТ → ? → _ОРТ
ПРУД _РУД
КУЧА _УЧА

Пример

ХОБОТ РОБОТ
СОЛЬ РОЛЬ
МОСТ → Р → РОСТ
МУКА РУКА
КОСА РОСА

В ответе запиши только одну букву

Задание №14

Сеня стрелял из лука по мишени. В первый раз он набрал 12 очков, во второй раз – 15 очков. Сколько очков он набрал в третий раз?



В ответе запиши только одно число

Задание №15

Лягушонок нашёл на болоте букву Б и хочет её удачно пристроить. Помоги Лягушонку вставить букву Б, чтобы получилось новое слово.

_С_Т_О_Л_

В ответе запиши новое слово

Задание №16

Замени каждую букву на предшествующую ей по алфавиту. Если всё сделаешь правильно, узнаешь название птицы.

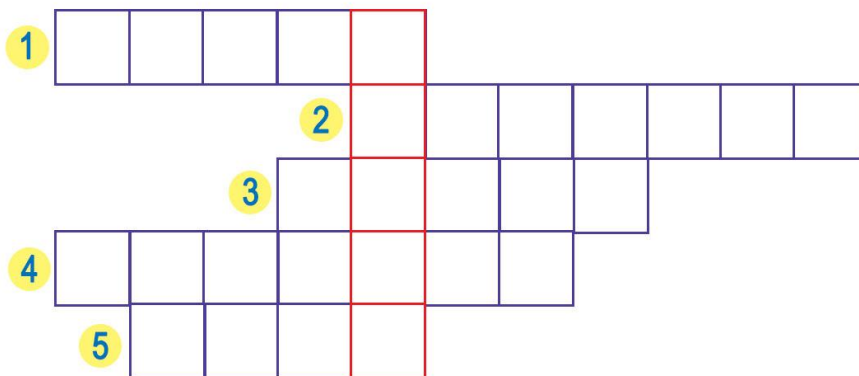
20 16 7 5 11 19 31



В ответе запиши получившееся слово

Задание №17

Разгадай кроссворд. В ответе запиши получившееся слово.



1. Городская подземка – это...
2. Это самый главный город любого государства
3. Как называют май, сентябрь, а также неполную Луну на небе?
4. Какой день недели предшествует среде и идёт после понедельника?
5. Число, правый сосед шестёрки.

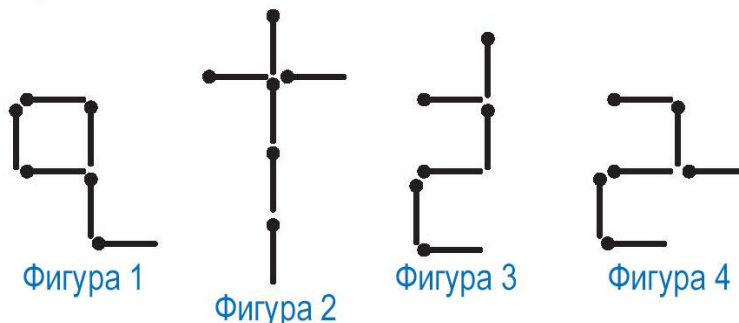
В ответе запиши получившееся слово

Задание №18

Фигура составлена из 6 спичек.



Таня переложила две спички. Какая из фигур (1) – (4) не могла у неё получиться?



1. Фигура 1
2. Фигура 2
3. Фигура 3
4. Фигура 4
5. Все фигуры могли получиться

В ответе укажи только номер выбранного варианта (1 или 2 или 3 или 4 или 5)