

II Международный интеллектуальный турнир
«Я открываю Мир логики»
(для дошкольников)

Задания

Ответ должен быть представлен строго в виде **ОДНОГО ЧИСЛА** или **СЛОВА** (согласно условию задания) без кавычек, точек и других дополнительных символов. Неверно записанные ответы не учитываются.

Задание №1

У Маши один целый апельсин и две половинки апельсина. Сколько всего апельсинов у Маши?

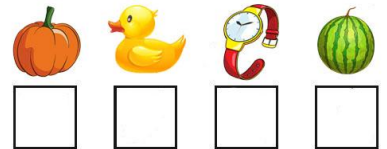
В ответе запиши число апельсинов



Задание №2

Расшифруй слово: для этого впиши в ячейки первые буквы названий предметов.

В ответе запиши получившееся слово



Задание №3

Какой снеговик получится из всех деталей на картинке справа?



В ответе укажи только номер выбранного варианта (1 или 2 или 3)

Задание №4

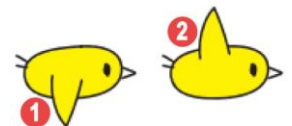
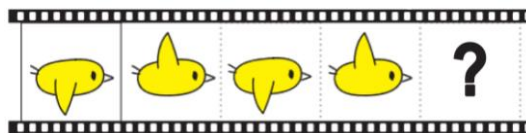
Отправились три богатыря на состязание по стрельбе из лука. Найди тележку с чемоданами богатырей. У каждого богатыря должен оказаться один чемодан!



В ответе укажи только номер выбранного варианта (1 или 2 или 3)

Задание №5

Продолжи ряд.



Какая картинка окажется на месте вопросительного знака?

В ответе укажи только номер выбранного варианта (1 или 2)

Задание №6

Маша наблюдала за птицами. На ветке дерева сидели 5 сорок и 3 воробья. Начался дождик, и 6 птичек улетели. Была ли среди улетевших птиц хоть одна сорока?



1. да

2. нет

В ответе укажи только номер выбранного варианта (1 или 2)

Задание №7

Решите sudoku на картинке справа. Какую картинку надо вставить вместо знака вопроса, чтобы в каждой строке и в каждом столбце изображения не повторялись?



В ответе укажи только номер выбранного варианта (1 или 2 или 3)

Задание №8

Винни-Пух толще Кролика, а Пятачок стройнее Кролика. Двое вылезли из норы, а один застрял. Кто застрял?

1. Кролик
2. Винни-Пух
3. Пятачок



В ответе укажи только номер выбранного варианта (1 или 2 или 3)

Задание №9

В какой клетке окажется смайлик, если его передвинуть на одну клетку влево?


В ответе укажи только номер правильной клетки (1 или 2 или 3 или 4 или 5 или 6)



Задание №10

Мама попросила Машу после прогулки полить вот этот цветочек на картинке справа.

Но когда Маша вернулась домой с прогулки, было уже темно. Видны только силуэты цветов. Подскажи Маше, какой цветок ей нужно полить?



В ответе укажи только номер выбранного варианта (1 или 2 или 3 или 4)

Задание №11

Зайчата собрали 10 красивых осенних листочков и разложили их на столе. Листья строго чередуются по цвету – зелёный, красный, жёлтый. Какого цвета будет последний десятый листок, если первый листочек зелёного цвета?



В ответе укажи только номер выбранного варианта (1 или 2 или 3)

Задание №12

Лисёнок пришел в гости к своему другу – одному из героев русской народной сказки «Теремок». На картинке его друг находится ниже лисы и левее медведя. Кто друг Лисёнка?

1. Мышонок
2. Зайчонок
3. Волчонок
4. Лягушонок

В ответе укажи только номер выбранного варианта (1 или 2 или 3 или 4)

