

Всероссийская математическая олимпиада
«Юные математики России-2026»
(для учащихся 1 классов)



Задания

Ответ должен быть представлен строго в виде **ОДНОГО СЛОВА, БУКВЫ** или **ЧИСЛА** (согласно условию задания) без кавычек, точек, орфографических ошибок. Неверно записанные ответы не учитываются.

Задание №1

Маша каждый день срывает в лесу одну шишку с дерева для своей аппликации, которую она готовит маме на день рождения.

Сколько шишек она наберет за 2 недели?

Задание №2

Посчитай, сколько всего ягод собрал Ежик в саду, когда помогал маме:



В ответе запиши количество ягод

Задание №3


Числа 3, 1, 6, 5, 7 и 8 надо расположить в порядке возрастания. Какое число будет четвёртым в этом списке?



В ответе запиши только одно число

Задание №4

В компьютерной игре герою надо как можно быстрее добраться по лестницам от А к Б. По скольким лестницам он будет идти вниз?



В ответе запиши только число лестниц

Задание №5

Четыре мальчика играли на барабанах. Всего у них было 6 барабанных палочек. У некоторых мальчиков по 2 палочки, а у остальных по одной палочке.

Сколько мальчиков держат по 2 барабанные палочки?



Задание №6

На пальме сидели 2 попугая, 3 обезьянки и 2 орла. Сколько всего у них крыльев?

В ответе запиши общее число крыльев

Задание №7

Вместо цифры «5» Вася рисует ладошку, вместо «4» – квадратик, а вместо «3» – треугольник. Найди ответ в примере на рисунке.



В ответе запиши результат примера

Задание №8

Бабушка дала внучке Маше 5 пирожков, себе оставила – столько же, а внуку Мише на 2 пирожка больше, чем Маше.

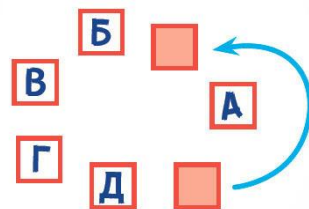
Сколько всего пирожков получили Миша и Маша?

Задание №9

Петя хочет закрасить все квадратики с буквами на рисунке. Он закрашивает их через один, двигаясь по стрелочке. Квадратик с какой буквой он закрасит последним?

1. А
2. Б
3. В
4. Г
5. Д

Выбери правильный ответ и напиши его номер (1 или 2 или 3 или 4 или 5)



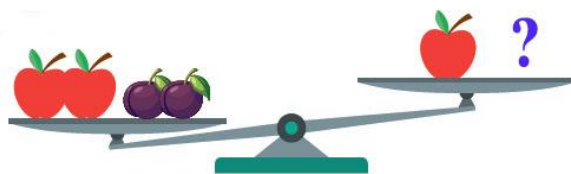
Задание №10

В коробке с игрушками у Маши лежат кубики. Если добавить туда ещё пять кубиков, станет 14. Сколько кубиков изначально лежало в коробке?

В ответ запиши количество кубиков, которые изначально лежали в коробке

Задание №11

Одно яблоко весит столько же, сколько три сливы. Сколько слив надо положить на правую чашу весов, чтобы их уравновесить?



В ответе запиши число слив на правой чаше весов


Задание №12

Маша, Вася, Петя и Даша рисовали инопланетян. Маша нарисовала своему инопланетянину больше трёх глаз, Вася и Петя нарисовали им по три глаза, а Даша – меньше трёх.

Маша и Вася нарисовали инопланетян с двумя головами, а Петя и Даша – с одной. Кто нарисовал этот рисунок?

1. Маша
2. Вася
3. Петя
4. Даша

Выбери правильный ответ и напиши его номер (1 или 2 или 3 или 4)



Оценка ответов на вопросы конкурса:

- за каждый правильный ответ на задания с 1 по 8 – 8 баллов
- за каждый правильный ответ на задания с 9 по 12 – 9 баллов

Уважаемые участники, родители и координаторы!

Пожалуйста, поделитесь отзывом о конкурсе – нам важно ваше мнение. Расскажите: что нового вы узнали, какие задания были лёгкими, а какие сложными, что вам не понравилось и хотели бы вы участвовать в конкурсе снова. Ваши предложения и замечания ждём на почту: unikum.konkurs@yandex.ru и mir-konkursov2008@yandex.ru.