

Международная олимпиада по логике
«Увлекательная логика»
(для дошкольников 5-7 лет)

Задания

Ответ должен быть представлен строго в виде ОДНОГО СЛОВА, БУКВЫ или ЧИСЛА (согласно условию задания) без кавычек, точек, орфографических ошибок. Неверно записанные ответы не учитываются.

Задание №1

Для аппликации Даша разрезала мишуру в 3 местах. Сколько всего маленьких кусочков мишуры у неё получилось?

В ответе запиши полученное число

Задание №2

Посчитай, сколько всего ягод собрал Ежик в саду, когда помогал маме:



В ответ запиши количество ягод

Задание №3

Витя убирал свои игрушки и выставил машинки в ряд одну за другой. Между первой машинкой и последней машинкой стоит три машинки.

Посчитай сколько всего машинок в ряду?

Задание №4

Какое животное самое высокое в природе?



1. слон

2. тигр

3. бегемот

4. жираф

Выбери правильный ответ и напиши его номер (1 или 2 или 3 или 4)

Задание №5

Посмотрите внимательно на картинку и определите, по какому правилу располагаются животные. Напишите, кто должен стоять из животных на месте вопроса?



1. Щенок

2. Поросёнок

3. Енот

Выбери правильный ответ и напиши его номер (1 или 2 или 3)

Задание №6

Ребята, определите, по какому правилу располагаются зверята. Дополните ряд, вставив пропущенного зверька вместо знака вопроса:



1. Белка

2. Заяц


3. Енот

Выбери правильный ответ и напиши его номер (1 или 2 или 3)

Задание №7

Ребята, посчитайте, сколько зеленых рыбок плывет слева направо?

В ответе укажи количество зеленых рыб, которые плывут слева направо



Задание №8

У медвежонка Миши день рождения. К нему пришли друзья. Рассмотрите картинку и посчитайте количество стульев, которые понадобятся для всех друзей, самого именинника и его мамы и папы:



В ответе запиши количество стульев

Задание №9

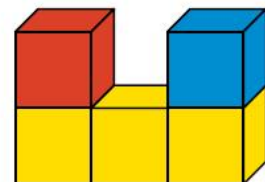

У медведя есть 3 корзины – красная, синяя и зелёная. В каждой корзине лежит один фрукт. Груша лежит не в красной и не в синей корзине, апельсин – не в красной. Определи, в какой корзине лежит яблоко:

1. Красная
2. Синяя
3. Зелёная

Выбери правильный ответ и напиши его номер (1 или 2 или 3)

Задание №10

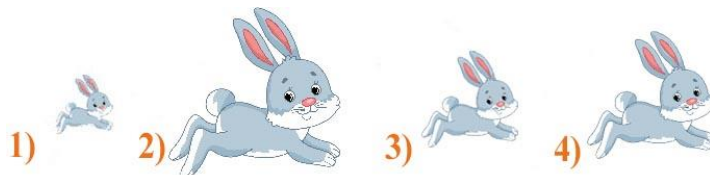
Вася построил фигуру из 5 кубиков (на рисунке справа). Как выглядит эта фигура, если смотреть на нее сверху?



Выбери правильный ответ и напиши его номер (1 или 2 или 3 или 4 или 5)

Задание №11

Вася фотографировал растущего крольчонка раз в месяц: в феврале, в марте, в апреле, в мае. Получилось 4 фотографии, которые представлены на картинке. Какая фотография была сделана в мае?



В ответе запиши номер фотографии

Задание №12

Посмотрите на рисунок. Какие две фигурки одного цвета, но разной формы?

1. 1 и 5
2. 2 и 4
3. 3 и 4
4. 3 и 6



Выбери правильный ответ и напиши его номер (1 или 2 или 3 или 4)