

Международный межпредметный конкурс
«Я открываю Мир Знаний»
(для учащихся 3-4 классов)

Задания

Ответ должен быть представлен строго в виде **ОДНОГО СЛОВА**, **БУКВЫ** или **ЧИСЛА** (согласно условию задания) без кавычек, точек, орфографических ошибок. Некоторые вопросы содержат подсказку – буквы ответа. Неверно записанные ответы не учитываются.

Задание №1

Математическая разминка

У Васи 4 друга. Каждому другу он дал 3 апельсина и один банан. И ещё 2 апельсина у него осталось. Сколько у Васи было апельсинов?

В ответе запиши число апельсинов

Задание №2

Путешествие в Спортландию

У какого спортивного снаряда есть блины (но их не едят) и гриф (но он не летает)?



В ответе запиши название спортивного снаряда

Задание №3

Весёлые ребусы

Разгадай наш весёлый ребус и узнаешь название красивого цветка.

В ответе запиши полученное слово

Л




М = Д

Задание №4

Занимательная логика

Выбери не четырехугольную и не синюю фигуру.

В ответе запиши номер фигуры



Задание №5

Грамматическая математика

Ребята любят играть в грамматическую математику и «собирать» слова. Попробуй и ты! Какое слово у тебя получилось?

РЕКА+БАРАНКИ+СОДА-РЕ-СОБАКИ+Ш

В ответе запиши получившееся слово

Задание №6

Из истории России

Собери первые буквы названий предметов на картинке. Составь слово и узнаешь, как называлась традиционная обувь русских крестьян.



В ответе напиши получившееся слово

Задание №7

Игры со словами

Какое из следующих слов нельзя превратить в зверя или птицу, заменив в нём одну букву? Запиши это слово в ответе. Пример «превращения»: сода – сова.

роза, полк, корона, липа, март, корж

В ответе запиши получившееся слово

Задание №8

Загадки окружающего мира

Плодом какого дерева являются жёлуди?



1. Кедр



2. Каштан



3. Рябина



4. Дуб



В ответе укажи только номер выбранного варианта (1 или 2 или 3 или 4)

Задание №9

Математика вокруг нас

В ряд лежат 11 карандашей разного цвета. Красный карандаш – крайний слева. Справа от синего карандаша столько же карандашей, сколько и слева.

Сколько карандашей лежит между синим и красным?

Задание №10

Азбука дорожного движения

Остановка общественного транспорта обозначается знаком...

В ответе укажи только номер знака



1



2



3



4

Задание №11

Я открываю космос

Это четвертая от Солнца планета. Ее называют Красной планетой, из-за цвета пыли, покрывающей ее поверхность. Как и на Земле, на этой планете времена года сменяют друг друга, но климат там значительно холоднее.

В ответе запиши название планеты



Задание №12

Путешествие по России

Девочка заменила каждую букву в названии своего города порядковым номером этой буквы в русском алфавите, получилось **21221**.


В ответе запиши название города

Задание №13

Считаем треугольники

Сколько всего треугольников ты видишь на этой картинке?

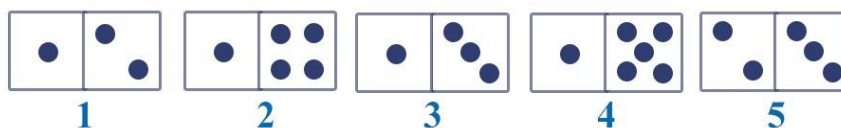
В ответе запиши число треугольников



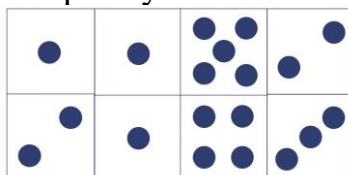
Задание №14

Лишняя доминошка

У Маши было 5 доминошек.



Из четырех доминошек она сложила прямоугольник.



Какая доминошка оказалась лишней? В ответе запишите номер лишней доминошки

Задание №15

Путешествие по сказкам

Как писал Иван Андреевич Крылов:

МАРТЫШКА К СТАРОСТИ СЛАБА ГЛАЗАМИ СТАЛА

А если бы эта мартышка жила не в басне, а в русской народной сказке, её вмиг вылечили бы.

Какие волшебные предметы способны на это?

1. Меч-кладенец и ковёр-самолёт
2. Волшебная дубинка и русская печь
3. Наливное яблочко и мёртвая вода
4. Молодильные яблоки и живая вода

В ответе укажи только номер выбранного варианта (1 или 2 или 3 или 4)

Задание №16

В мире животных

Эту ящерицу часто описывают, как «артист животного мира» и «мастер маскировки» из-за её способности менять оттенок своей кожи. Живёт она на деревьях и её глаза могут двигаться в разные стороны, независимо друг от друга. Марсианка, да и только!

Что это за инопланетное существо? Запиши его название в ответ.

--- e - e ---



В ответе запиши только одно слово

Задание №17

Загадка с весами

Белочка легче Зайчика, а Зайчик легче Лисички. Какая из трёх картинок верная?



1. Картинка 1
2. Картинка 2
3. Картинка 3

В ответе укажи только номер выбранного варианта (1 или 2 или 3)