

**V Международный конкурс
«Математический сундучок для маленьких вундеркиндов»
(для дошкольников)**


Задания

Ответ должен быть представлен строго в виде **ОДНОГО ЧИСЛА** или **СЛОВА** (согласно условию задания) без кавычек, точек и других дополнительных символов. Неверно записанные ответы не учитываются.

Задание №1

Чтобы закрасить одну клеточку, нужно потратить одну баночку краски. Сколько баночек краски понадобилось Маше, чтобы раскрасить букву на рисунке?

В ответе запиши только число баночек краски



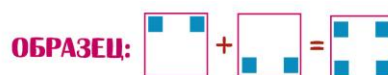
Задание №2

Найди чашку не с узором, не с ложкой и не желтую. В ответе запиши номер чашки.

В ответе укажи только номер выбранного варианта (1 или 2 или 3 или 4)

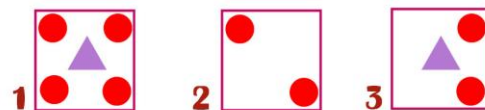
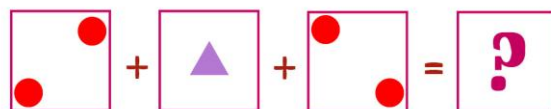


Задание №3



Реши пример и выбери правильный вариант ответа.

В ответе укажи только номер выбранного варианта (1 или 2 или 3)



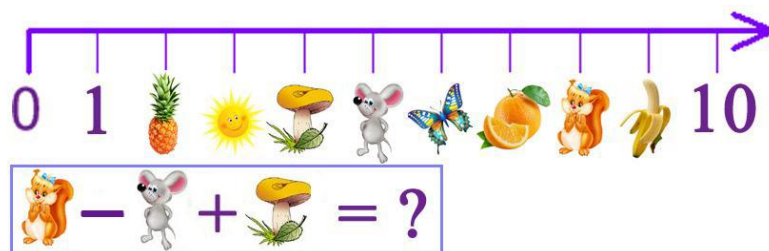
Задание №4

Бабушка отправила Машу собирать клубнику. Маша собрала несколько стаканов клубники. По дороге домой она съела 3 стакана клубники и столько же у нее осталось.

Сколько всего стаканов клубники собрала Маша?

Задание №5

Ребята, посмотрите на картинку. Перед вами волшебная прямая с картинками вместо чисел. С помощью этой прямой решите пример, записанный в рамочке. В ответе запишите только результат примера.



Задание №6


В соревнованиях по прыжкам в длину принимали участие 8 кузнечиков. Все, кроме пяти кузнечиков, заняли призовые места. *Сколько кузнечиков заняли призовые места?*

В ответе запишите только число кузнечиков.

Задание №7

Ребята, сосчитайте всех рыбок, которые плывут **НАЛЕВО**.

В ответе запиши количество рыбок, которые плывут налево



Задание №8

Бабушка вяжет внукам варежки, каждому – по паре. Сколько внучат у бабушки, если она связала 8 варежек?

В ответе запишите только число внуков.

Задание №9

Три девочки взяли по одному шарик в каждую руку.


Сколько всего у них шариков?



Задание №10

На нашем волшебном дереве растут буквы и цифры. Сосчитайте все буквы на дереве. Сколько букв у вас получилось?

В ответе запиши только количество букв



Задание №11

Вася любит считать птичек. Над Васей пролетели 2 сороки, 2 бабочки, 3 вороны, 3 комара и 3 голубя. *Сколько всего птиц насчитал Вася?*

В ответе запишите число птиц.

Задание №12

У Маши 9 конфет, а у Даши 5 конфет.

Сколько конфет Маша может отдать Даше, чтобы у девочек конфет стало поровну?

Задание №13

Ребята, разложите яблоки по кастрюлям. Число в кружочке на кастрюле – это сумма или разность двух чисел на каждом яблоке. В какой кастрюле оказалось **меньше** всего яблок?

1. Меньше всего яблок в кастрюле №1
2. Меньше всего яблок в кастрюле №2
3. Меньше всего яблок в кастрюле №3

В ответе укажи только номер выбранного варианта (1 или 2 или 3)

