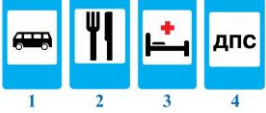





**VII Всероссийская викторина
«Уроки безопасности»
(для учащихся 3-4 классов)**

Ответы

Ответ должен быть представлен строго в виде **ОДНОГО СЛОВА, БУКВЫ** или **ЧИСЛА** (согласно условию задания) без кавычек, точек, орфографических ошибок. Некоторые вопросы содержат подсказку – буквы ответа. Букву «ё» можно писать как «е» или как «е». Неверно записанные ответы не учитываются.

Задание №1		Ответ
<p>Какой дорожный знак указывает на безопасное место перехода проезжей части? <i>В ответе укажи только номер выбранного варианта (1 или 2 или 3 или 4)</i></p>		4
Задание №2		Ответ
<p>Как называется часть дороги, по которой тебе как пешеходу запрещено двигаться? 1. Проезжая часть 2. Тротуар 3. Пешеходная дорожка <i>В ответе укажи только номер выбранного варианта (1 или 2 или 3)</i></p>		1
Задание №3		Ответ
<p>Нужно ли пассажиру быть пристёгнутым в легковом автомобиле? 1. Пассажир может ехать пристёгнутым, а может и не пристёгиваться – на его усмотрение 2. Нужно: если пассажир не пристегнут, то при резком торможении можно сильно удариться, получить травму 3. Не нужно: если пассажир пристегнут, то он ограничен в движениях в салоне автомобиля <i>В ответе укажи только номер выбранного варианта (1 или 2 или 3)</i></p>		2
Задание №4		Ответ
<p>Место, где улицы или дороги пересекаются, называется... 1. Перекресток 2. Переезд 3. Перекрытие <i>В ответе укажи только номер выбранного варианта (1 или 2 или 3)</i></p>		1 Перекресток
Задание №5		Ответ
<p>Рассмотри рисунки. На каком из них изображён пассажир, нарушающий правила поведения в салоне транспортного средства? <i>В ответе укажи только номер выбранного варианта (1 или 2 или 3)</i></p>		3

Задание №6		Ответ
<p>По проезжей части разрешено двигаться только транспортным средствам. Определи строку, в которой правильно перечислены транспортные средства.</p> <ol style="list-style-type: none"> 1. Скейтборд, самокат, мопед 2. Мотоцикл, трактор, мопед 3. Велосипед, мотоцикл, роликовые коньки <p><i>В ответе укажи только номер выбранного варианта (1 или 2 или 3)</i></p>		2
Задание №7		Ответ
<p>Остановка общественного транспорта обозначается знаком...</p> <p><i>В ответе укажи только номер выбранного варианта (1 или 2 или 3 или 4)</i></p>		1
Задание №8		Ответ
<p>Комплекс физических упражнений, которые необходимо выполнять сразу после сна.</p> <p style="text-align: center;">-----</p> <p><i>В ответе запиши только одно слово</i></p>		Зарядка
Задание №9		Ответ
<p>Кто работает рядом с этим дорожным знаком?</p>  <p><i>В ответе укажи только номер выбранного варианта (1 или 2 или 3)</i></p>		2
Задание №10		Ответ
<p>Для чего на одежду, рюкзак или портфель учащегося крепятся фликеры (элементы, которые отражают свет в темноте)?</p> <ol style="list-style-type: none"> 1. Для красоты 2. Чтобы выделиться среди одноклассников 3. Для обозначения себя при движении по дороге в тёмное время суток <p><i>В ответе укажи только номер выбранного варианта (1 или 2 или 3)</i></p>		3
Задание №11		Ответ
<p>Ты движешься зимой на лыжах, и тебе нужно пересечь проезжую часть. Надо ли такому пешеходу, как ты, снимать лыжи?</p> <ol style="list-style-type: none"> 1. Надо обязательно 2. По желанию 3. Не надо <p><i>В ответе укажи только номер выбранного варианта (1 или 2 или 3)</i></p>		1

Задание №12		Ответ
<p>Определи неверное утверждение.</p> <ol style="list-style-type: none"> 1. Опасно прыгать в сугроб: под снегом могут находиться осколки стекла, проволока, мусор 2. В сильный мороз нужно много гулять, так как морозный воздух полезен для здоровья 3. На улице нужно держаться подальше от домов: с крыши может упасть сосулька и обвалиться снег <p><i>В ответе укажи только номер выбранного варианта (1 или 2 или 3)</i></p>		2
Задание №13		Ответ
<p>Это средство используют для обработки ссадин и царапин на теле человека, чтобы в них не попали микробы.</p> <p style="text-align: center;">— — —</p> <p><i>В ответе запиши только одно слово</i></p>		Йод
Задание №14		Ответ
<p>Что может обезопасить пешехода на дороге?</p> <ol style="list-style-type: none"> 1. Смелость и уверенность в своих силах 2. Внимание и соблюдение Правил дорожной безопасности 3. Быстрота реакции и быстрое передвижение через проезжую часть <p><i>В ответе укажи только номер выбранного варианта (1 или 2 или 3)</i></p>		2
Задание №15		Ответ
<p>Рассмотри рисунки. На каком из них изображено неправильное поведение пассажиров во время передвижения на легковом автомобиле?</p> <div style="text-align: center;">  </div> <p><i>В ответе укажи только номер выбранного варианта (1 или 2 или 3)</i></p>		2
Задание №16		Ответ
<p>Отметь, как называется травма, которая образуется при повреждении кожи в результате неосторожно обращения с режущими предметами.</p> <ol style="list-style-type: none"> 1. Ожог 2. Ушиб 3. Порез <p><i>В ответе укажи только номер выбранного варианта (1 или 2 или 3)</i></p>		3 Порез

Задание №17		Ответ
<p>Рассмотри рисунки. На каком из них изображен участник дорожного движения, который не нарушает правила дорожного движения?</p>  <p>1 2 3</p> <p><i>В ответе укажи только номер выбранного варианта (1 или 2 или 3)</i></p>		3
Задание №18		Ответ
<p>Поговорим о здоровом образе жизни. Как называется четко установленный распорядок действий на день.</p> <p style="text-align: center;">— — — — —</p> <p><i>В ответе запиши только одно слово</i></p>		Режим

Уважаемые ребята, родители и координаторы!

Мы будем очень благодарны Вам за оставленный отзыв о конкурсе.

Нам очень важно знать ваше мнение о конкурсных заданиях. Что нового вы узнали, участвуя в конкурсе? Какие задания показались лёгкими? А какие самыми сложными? Что вам не понравилось? Хотели бы вы ещё участвовать в подобных конкурсах?

Ждём все Ваши предложения, пожелания и замечания на наши электронные адреса: unikum.konkurs@yandex.ru и mir-konkursov2008@yandex.ru