


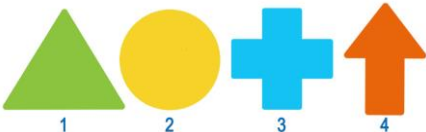




# III Всероссийский интеллектуальный турнир







## «Занимательная логика» (для учащихся 1-2 классов)



### Ответы

Ответ должен быть представлен строго в виде **ОДНОГО СЛОВА**, **БУКВЫ** или **ЧИСЛА** (согласно условию задания) без кавычек, точек, орфографических ошибок. Неверно записанные ответы не учитываются.

Задание №1		Ответ
<p>К Грише пришли в гости друзья и повесили свои варежки сушиться на батарею. Сколько друзей пришло к Грише?</p>  <p><i>В ответе запиши число друзей</i></p>		5
<p>У мышат и цыплят 10 лапок и 3 головы. Сколько всего мышат и цыплят в нашей сказке?</p> <p><i>В ответе запиши только одно число</i></p>		3
<p>Какую картинку Гриша наклеил второй на свою аппликацию?</p>   <p><i>В ответе укажи только номер картинки</i></p>		2
<p>Выбери не животное, но колючее.</p>  <p><i>В ответе укажи только номер выбранного варианта (1 или 2 или 3 или 4)</i></p>		4 <i>Кактус</i>
<p>Какое слово зашифровано в ребусе?</p> <p style="text-align: center;">- - - - - а</p> <p><i>В ответе запишите получившееся слово</i></p>	<p><b>БА</b> </p>	<p>Ответ</p> <p><i>Бабочка</i></p>
<p>Стрекоза летает быстрее бабочки, а бабочка быстрее мухи. Кто из насекомых самый медленный?</p> <p>1. Бабочка 2. Муха 3. Стрекоза</p> <p><i>В ответе укажи только номер выбранного варианта (1 или 2 или 3)</i></p>		<p>Ответ</p> <p style="text-align: center;">2 <i>Муха</i></p>

<b>Задание №7</b>		<b>Ответ</b>
<p>Какая фигура принадлежит группе фигур на картинке справа?</p>  <p><i>В ответе укажи номер выбранного варианта (1 или 2 или 3 или 4)</i></p>		<p><b>4</b> <i>Квадрат</i></p>
<b>Задание №8</b>		<b>Ответ</b>
<p>На картинке гирлянда Матвея. Он украшает флажки на гирлянде так: на первом флажке он рисует звездочку, а на двух следующих – снежинки, потом все повторяется. Сколько получится снежинок, когда он украсит всю гирлянду?</p>  <p><i>В ответе запиши число снежинок</i></p>		<p><b>7</b> <i>снежинок</i></p>
<b>Задание №9</b>		<b>Ответ</b>
<p>Вася пришел в школу раньше, чем Гриша. А Гриша пришёл в школу позже, чем Петя. Кто из ребят пришёл в школу последним?</p> <ol style="list-style-type: none"> <li>Вася</li> <li>Гриша</li> <li>Петя</li> </ol> <p><i>В ответе укажи только номер выбранного варианта (1 или 2 или 3)</i></p>		<p><b>2</b> <i>Гриша</i></p>
<b>Задание №10</b>		<b>Ответ</b>
<p>На снимке Вася, Петя и Гриша. Вася в центре. Футболка Гриши не красная. Как зовут мальчика в зелёной футболке?</p> <ol style="list-style-type: none"> <li>Вася</li> <li>Петя</li> <li>Гриша</li> </ol> <p><i>В ответе укажи только номер выбранного варианта (1 или 2 или 3)</i></p>		<p><b>3</b> <i>Гриша</i></p>
<b>Задание №11</b>		<b>Ответ</b>
<p>Два одинаковых ведра заполнено плодами. Первое ведро заполнено грушами, а второе ведро заполнено клубникой. В каком ведре поместилось больше плодов?</p> <p><i>В ответе запиши только номер ведра (1 или 2)</i></p>		<p><b>2</b></p>
<b>Задание №12</b>		<b>Ответ</b>
<p>Ребята, посмотрите на картинку. Весы находятся в равновесии. Что весит больше – одно яблоко или одна груша?</p> <ol style="list-style-type: none"> <li>Яблоко</li> <li>Груша</li> <li>Одинаково</li> </ol> <p><i>В ответе укажите только номер выбранного варианта (1 или 2 или 3)</i></p>		<p><b>1</b> <i>Яблоко</i></p>

<b>Задание №13</b>		<b>Ответ</b>
<p>В постройке на картинке жёлтых кубиков столько же, сколько и красных. Какой кубик спрятан?</p> <p>1. Жёлтый 2. Красный 3. Голубой</p> <p><i>В ответе укажи только номер выбранного варианта (1 или 2 или 3)</i></p>		<p><b>2</b> <b>Красный</b></p>
<b>Задание №14</b>		<b>Ответ</b>
<p>Вика, Даша и Маша наряжали разные ёлочки. У Вики и Маши на ёлочке по 3 красных шарика. У Даши и Маши – по 4 голубых сосульки.</p> <p><i>Кто из девочек наряжал ёлку №2?</i></p> <p>1. Вика 2. Даша 3. Маша</p> <p><i>В ответе укажи только номер выбранного варианта (1 или 2 или 3)</i></p>		<p><b>2</b> <b>Даша</b></p>

### Оценка ответов на вопросы конкурса:

- за каждый правильный ответ на задания с 1 по 12 – 7 баллов
- за каждый правильный ответ на задания с 13 по 14 – 8 баллов

Уважаемые ребята, родители и координаторы!

Мы будем очень благодарны Вам за оставленный отзыв о конкурсе.

Нам очень важно знать ваше мнение о конкурсных заданиях. Что нового вы узнали, участвуя в конкурсе? Какие задания показались лёгкими? А какие самыми сложными? Что вам не понравилось? Хотели бы вы ещё участвовать в подобных конкурсах?

Ждём все Ваши предложения, пожелания и замечания на наши электронные адреса: [unikum.konkurs@yandex.ru](mailto:unikum.konkurs@yandex.ru) и [mir-konkursov2008@yandex.ru](mailto:mir-konkursov2008@yandex.ru)