














**Международный интеллектуальный турнир
«Путешествие в Мир логики»
(для дошкольников)**

Ответы

Ответ должен быть представлен строго в виде **ОДНОГО СЛОВА**, **БУКВЫ** или **ЧИСЛА** (согласно условию задания) без кавычек, точек, орфографических ошибок. Неверно записанные ответы не учитываются.

Задание №1		Ответ
<p>К четырём бабочкам залетела божья коровка. Сколько бабочек стало? <i>В ответе запиши число бабочек</i></p>		<p align="center">4</p>
<p align="center">Задание №2</p>		<p align="center">Ответ</p>
<p>Какую картинку Гриша наклеил третьей на свою аппликацию? </p> <p><i>В ответе укажи только номер картинки</i></p>		<p align="center">3</p>
<p align="center">Задание №3</p>		<p align="center">Ответ</p>
<p>Заяц и кот живут на одном этаже. Кто живёт на одном этаже с мышкой? 1. Кот 2. Белка 3. Заяц <i>В ответе укажи только номер выбранного варианта (1 или 2 или 3)</i></p>		<p align="center">2 Белка</p>
<p align="center">Задание №4</p>		<p align="center">Ответ</p>
<p>Найди на картинке лишний предмет. </p> <p><i>В ответе укажи только номер выбранного варианта (1 или 2 или 3 или 4)</i></p>		<p align="center">2</p>
<p align="center">Задание №5</p>		<p align="center">Ответ</p>
<p>Какая цифра спряталась за звездочкой? <i>В ответе запиши полученное число</i></p>	<p align="center">$1 + \star + 1 = 4$ $\star = ?$</p>	<p align="center">2</p>
<p align="center">Задание №6</p>		<p align="center">Ответ</p>
<p>В зоопарке живут жёлтые, синие и красные попугаи. Жёлтых попугаев столько же, сколько синих. А синих столько же, сколько красных. Сколько всего попугаев в зоопарке, если красных 2? <i>В ответе запиши общее число попугаев</i></p>		<p align="center">6 $2+2+2=6$</p>
<p align="center">Задание №7</p>		<p align="center">Ответ</p>
<p>На двух тарелках лежали одинаковые фрукты. Вася съел один фрукт со второй тарелки. Какой фрукт съел Вася? <i>В ответе укажи только номер выбранного варианта (1 или 2 или 3 или 4 или 5)</i></p>	<p align="center">тарелка 1 тарелка 2</p> 	<p align="center">2 Яблоко</p>

Задание №8		Ответ
<p>Разгадай ребус!</p>  <p>Выбери картинку-отгадку!</p> <p><i>В ответе укажи только номер выбранного варианта (1 или 2 или 3 или 4)</i></p>		<p>3 <i>Носок</i></p>
Задание №9		Ответ
<p>Гриша разделил шоколадку на 6 равных кусочков. Половину он оставил себе, а 3 кусочка отдал Мише. Кому досталось больше шоколадки?</p> <p>1. Грише 2. Мише 3. Одинаково</p> <p><i>В ответе укажи только номер выбранного варианта (1 или 2 или 3)</i></p>		<p>3 <i>Одинаково</i></p>
Задание №10		Ответ
<p>Найди верную тень пирамидки.</p> <p><i>В ответе укажи только номер выбранного варианта (1 или 2 или 3)</i></p>		<p>1</p>
Задание №11		Ответ
<p>У Кролика 4 друга. Каждому другу он дал по одной морковке и по одному яблоку. И ещё одно яблоко у него осталось. Сколько у Кролика было яблок?</p> <p><i>В ответе запиши число яблок</i></p>		<p>5</p>
Задание №12		Ответ
<p>Стрекоза летает быстрее бабочки, а бабочка быстрее мухи. Кто из насекомых самый медленный?</p> <p>1. Бабочка 2. Муха 3. Стрекоза</p> <p><i>В ответе укажи только номер выбранного варианта (1 или 2 или 3)</i></p>		<p>2 <i>Муха</i></p>
Задание №13		Ответ
<p>Найди на картинке животное, которое не летает, не бежит и не ползает.</p>  <p><i>В ответе укажи только номер выбранного варианта (1 или 2 или 3 или 4)</i></p>		<p>4 <i>Кит</i></p>
Задание №14		Ответ
<p>Маша разрежала ленту в трёх местах. Сколько маленьких кусочков ленты у нее получилось?</p> <p><i>В ответе запиши число кусочков</i></p>		<p>4</p>