




**Всероссийская математическая олимпиада
«Юные математики России-2026»
(для дошкольников)**



Ответы

Ответ должен быть представлен строго в виде **ОДНОГО ЧИСЛА** или **СЛОВА** (согласно условию задания) без кавычек, точек и других дополнительных символов. Неверно записанные ответы не учитываются.

Задание №1		Ответ
<p>Маша каждый день срывает в лесу один лист с дерева для своей аппликации, которую она готовит маме на день рождения. <i>Сколько листьев она наберет за неделю?</i></p>		7
Задание №2		Ответ
<p>Посчитай, сколько всего ягод собрал Ежик в саду, когда помогал маме:</p>  <p><i>В ответе запиши количество ягод</i></p>		2
Задание №3		Ответ
<p>Белочка собирала красные и жёлтые яблоки. Всего она собрала 4 яблока. Красных яблок больше, чем жёлтых. <i>Сколько жёлтых яблок собрала белочка?</i></p>		1
Задание №4		Ответ
<p>Петя и Вася купили для мамы цветы к празднику (смотри рисунок справа). Петя подарил самый большой цветок, все красные цветы и один синий. Остальные цветы подарил Вася. <i>Сколько цветов подарил Вася?</i> <i>В ответе запиши, сколько цветов подарил Вася</i></p>		3
Задание №5		Ответ
<p>Ребята, посмотрите на рисунки. Сколько ягодок нужно еще нарисовать на рисунке слева, чтобы их стало поровну на обоих рисунках?</p>  <p><i>В ответе запиши только число дополнительных ягодок</i></p>		3
Задание №6		Ответ
<p>Помоги Зайчонку сосчитать, сколько круглых предметов он взял с собой в поход:</p>  <p><i>В ответ запиши количество круглых предметов</i></p>		5

Задание №7		Ответ
<p>Посмотрите на картинку. Сколько на картинке мышек, которые смотрят влево?</p>  <p><i>В ответе запишите только полученное число</i></p>		4
Задание №8		Ответ
<p>На пальме сидели 2 попугая, 3 обезьянки и 2 орла. Сколько всего у них крыльев?</p> <p><i>В ответе запиши общее число крыльев</i></p>		8
Задание №9		Ответ
<p>Щенок и котенок надували шарики. Каких шариков получилось больше, желтых или зеленых?</p>  <p>1. Зелёных 2. Желтых 3. Одинаково</p> <p><i>Выбери правильный ответ и напиши его номер (1 или 2 или 3)</i></p>		1 Зелёных
Задание №10		Ответ
<p>В коробке с игрушками у белочки Маши лежат кубики. Если добавить туда ещё пять кубиков, станет десять.</p> <p><i>Сколько кубиков изначально лежало в коробке?</i></p>		5
Задание №11		Ответ
<p>Четыре мальчика играли на барабанах. Всего у них было 6 барабанных палочек. У некоторых мальчиков по 2 палочки, а у остальных по одной палочке. Сколько мальчиков держат по 2 палочки?</p>  <p><i>Сколько мальчиков держат по 2 барабанные палочки?</i></p>		2
Задание №12		Ответ
<p>Как-то утром Баба-яга решила посчитать всех разноцветных бабочек, порхающих над её избушкой на курьих ножках.</p>		3 Желтых



Помоги Бабе-яге посчитать правильно и выяснить, бабочек какого цвета летает больше:

1. Синих
2. Красных
3. Желтых

Выбери правильный ответ и напиши его номер (1 или 2 или 3)

Оценка ответов на вопросы конкурса:

- за каждый правильный ответ на задания с 1 по 8 – 8 баллов
- за каждый правильный ответ на задания с 9 по 12 – 9 баллов

Уважаемые участники, родители и координаторы!

Пожалуйста, поделитесь отзывом о конкурсе – нам важно ваше мнение. Расскажите: что нового вы узнали, какие задания были лёгкими, а какие сложными, что вам не понравилось и хотели бы вы участвовать в конкурсе снова. Ваши предложения и замечания ждём на почту: unikum.konkurs@yandex.ru и mir-konkursov2008@yandex.ru.