

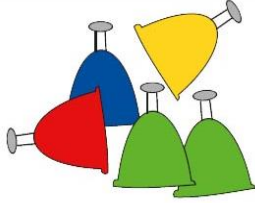



**Всероссийская математическая олимпиада  
«Юные математики России-2026»  
(для учащихся 3 классов)**

**Ответы**

Ответ должен быть представлен строго в виде **ОДНОГО СЛОВА**, **БУКВЫ** или **ЧИСЛА** (согласно условию задания) без кавычек, точек, орфографических ошибок. Неверно записанные ответы не учитываются.

| <b>Задание №1</b>  |                             | <b>Ответ</b>   |
|--|-----------------------------|----------------|
| <p>В примере квадратики заменяют одну и ту же цифру. Какую?<br/><i>В ответе запиши только одну цифру</i></p>   | $1\square + \square 1 = 55$ | 4              |
| <b>Задание №2</b>  |                             | <b>Ответ</b>   |
| <p>Сколько яблок разрезала мама, если на тарелке оказалось 7 половинок и 6 четвертинок?<br/><i>В ответе запиши, сколько целых яблок разрезала мама</i></p>   |                             | 5              |
| <b>Задание №3</b>  |                             | <b>Ответ</b>   |
| <p>Петя хочет закрасить все квадратики с буквами на рисунке. Он закрашивает их через один, двигаясь по стрелочке. Квадратик с какой буквой он закрасит последним?<br/>1. А<br/>2. Б<br/>3. В<br/>4. Г<br/>5. Д<br/><i>Выбери правильный ответ и напиши его номер (1 или 2 или 3 или 4 или 5)</i></p> |                             | 4<br>Г         |
| <b>Задание №4</b>  |                             | <b>Ответ</b>   |
| <p>Туристы отправились в поход в среду в полдень. Поход длился 50 часов. В какой день недели они вернулись?<br/>1. в пятницу<br/>2. в субботу<br/>3. в воскресенье<br/>4. в понедельник<br/>5. во вторник<br/><i>Выбери правильный ответ и напиши его номер (1 или 2 или 3 или 4 или 5)</i></p>      |                             | 1<br>в пятницу |
| <b>Задание №5</b>  |                             | <b>Ответ</b>   |
| <p>Одно яблоко весит столько же, сколько три сливы. Сколько слив надо положить на правую чашу весов, чтобы их уравновесить?</p> <p align="center"> </p> <p><i>В ответе запиши число слив на правой чаше весов</i></p>  |                             | 5              |

| <b>Задание №6</b>  |  | <b>Ответ</b>                          |
|--|--|---------------------------------------|
| <p>Гриша записал цифрами число <b>триста два миллиона семьдесят три тысячи семь</b>. Сколько нулей в его записи?<br/> <i>В ответе запиши, сколько нулей в записи числа</i></p>   |  | <p><b>4</b><br/> <b>302073007</b></p> |
| <b>Задание №7</b>  |  | <b>Ответ</b>                          |
| <p>Из связки шариков Вася хочет выбрать 4 шарика с цифрами 2, 0, 2, 6 так, чтобы все шарики были разных цветов. Сколько разных наборов шариков у него может получиться?<br/> <i>В ответе запиши количество разных наборов шариков</i></p>  |    | <p><b>2</b></p>                       |
| <b>Задание №8</b>  |  | <b>Ответ</b>                          |
| <p>У Светы дома живёт несколько хомяков. Она посчитала, что лап у них на 12 больше, чем носов.<br/> <i>Сколько хомяков у Светы?</i></p>  |  | <p><b>4</b></p>                       |
| <b>Задание №9</b>  |  | <b>Ответ</b>                          |
| <p>За три недели Петя прочитал 12 комиксов. За вторую неделю он прочитал больше комиксов, чем за первую, а за третью – больше, чем за вторую, но меньше, чем за первые две недели вместе. Сколько комиксов прочитал Петя за вторую неделю?<br/> <i>В ответе запиши число комиксов, прочитанных за вторую неделю</i></p>  |  | <p><b>4</b></p>                       |
| <b>Задание №10</b>   |  | <b>Ответ</b>                          |
| <p>На рисунке справа лежат 5 колокольчиков Васи. Он поставил колокольчики в ряд так, чтобы жёлтый колокольчик стоял <b>не с краю</b>, а синий колокольчик – <b>между красным и зелёным</b>. Какой ряд из колокольчиков мог получиться?</p> <p>  </p> <p><i>В ответе укажи только номер выбранного варианта (1 или 2 или 3 или 4)</i></p> |  | <p><b>4</b></p>                       |
| <b>Задание №11</b>   |  | <b>Ответ</b>                          |
| <p>Сейчас идёт 2026 год. Сумма цифр этого года равна 10. Какой следующий ближайший год будет иметь такую же сумму цифр?<br/> <i>В ответе запиши следующий ближайший год с суммой цифр 10</i></p>   |  | <p><b>2035</b></p>                    |
| <b>Задание №12</b>   |  | <b>Ответ</b>                          |
| <p>На доске написаны пять чисел. Вася записал их в строчку без пробелов. Оказалось, что в его записи нельзя увидеть число 26 (идушие подряд цифры 2 и 6). Какое число он записал вторым?</p>   |  | <p><b>5</b><br/> <b>62</b></p>        |

|  |  |  |
|--|--|--|
| <p>1. 32<br/>2. 42<br/>3. 52<br/>4. 61<br/>5. 62</p> <p><i>Выбери правильный ответ и напиши его номер (1 или 2 или 3 или 4 или 5)</i></p>  |  |  |
| <b>Задание №13</b>   |  | <b>Ответ</b>   |
| <p>У Пети на столе лежали упаковки с конфетами. В каждой по 12 штук. Когда Петя открыл все упаковки и съел по 3 конфеты из каждой упаковки, во всех упаковках вместе осталось 45 конфет.</p> <p><i>Сколько упаковок с конфетами было на столе?</i></p>                         |  | <p><b>5</b></p> <p><i>Решение:<br/>Когда Петя взял из каждой упаковки по 3 конфеты, то осталось по 9 конфет в каждой упаковке (<math>12 - 3 = 9</math>).<br/>Так как всего осталось 45 конфет, то упаковок было <math>45 / 9 = 5</math>.</i></p> |
| <b>Задание №14</b>   |  | <b>Ответ</b>   |
| <p>Тетушка сова решила угостить зайчат и оленят яблоками. Всем зайчатам она дала яблок поровну и всем оленятам тоже поровну. Трём зайчатам и двум оленятам выдано 13 яблок, а двум зайчатам и трём оленятам 12 яблок.</p> <p><i>Сколько яблок получил каждый зайчонок?</i></p> |  | <p><b>3</b></p>  |

### Оценка ответов на вопросы конкурса:

- за каждый правильный ответ на задания с 1 по 12 – 7 баллов
- за каждый правильный ответ на задания с 13 по 14 – 8 баллов

Уважаемые участники, родители и координаторы!

Пожалуйста, поделитесь отзывом о конкурсе – нам важно ваше мнение. Расскажите: что нового вы узнали, какие задания были лёгкими, а какие сложными, что вам не понравилось и хотели бы вы участвовать в конкурсе снова. Ваши предложения и замечания ждём на почту: [unikum.konkurs@yandex.ru](mailto:unikum.konkurs@yandex.ru) и [mir-konkursov2008@yandex.ru](mailto:mir-konkursov2008@yandex.ru).