
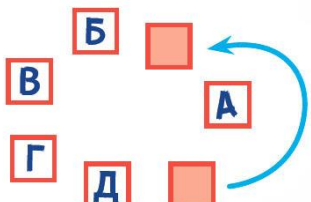
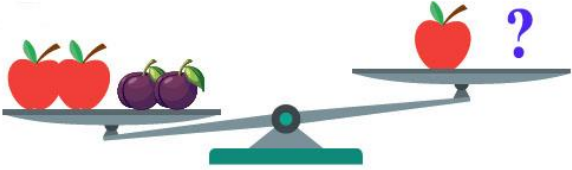





**Всероссийская математическая олимпиада
«Юные математики России-2026»
(для учащихся 2 классов)**

Ответы

Ответ должен быть представлен строго в виде ОДНОГО СЛОВА, БУКВЫ или ЧИСЛА (согласно условию задания) без кавычек, точек, орфографических ошибок. Неверно записанные ответы не учитываются.

Задание №1		Ответ
<p>Маша каждый день срывает в лесу один листик с дерева для своей аппликации, которую она готовит маме на день рождения.</p> <p><i>Сколько листьев она наберет за апрель?</i></p>		30
Задание №2		Ответ
<p>Числа 3, 1, 6, 5, 7 и 8 надо расположить в порядке возрастания. Какое число будет четвёртым в этом списке?</p> <p align="center">1 3 6 5 7 8</p> <p><i>В ответе запиши только одно число</i></p>		6
Задание №3		Ответ
<p>Какие часы показывают ровно 9 часов 20 минут</p> <p>1 2 3 4 5</p>  <p><i>Выбери правильный ответ и напиши его номер (1 или 2 или 3 или 4 или 5)</i></p>		1
Задание №4		Ответ
<p>Петя хочет закрасить все квадратики с буквами на рисунке. Он закрашивает их через один, двигаясь по стрелочке. Квадратик с какой буквой он закрасит последним?</p> <p>1. А 2. Б 3. В 4. Г 5. Д</p> <p><i>Выбери правильный ответ и напиши его номер (1 или 2 или 3 или 4 или 5)</i></p>		4 Г
Задание №5		Ответ
<p>Маша и Даша вырезали для аппликации поровну бумажных цветочков. Маша вырезала 8 больших цветков и 4 маленьких. Даша больших цветков вырезала только 5. Сколько маленьких цветочков она вырезала?</p> <p><i>В ответе запиши, сколько маленьких цветочков вырезала Даша</i></p>		7

Задание №6		Ответ
<p>Одно яблоко весит столько же, сколько три сливы. Сколько слив надо положить на правую чашу весов, чтобы их уравновесить?</p>  <p><i>В ответе запиши число слив на правой чаше весов</i></p>		5
Задание №7		Ответ
<p>Сколько кружочков надо нарисовать Маше, чтобы их было на 1 больше, чем углов у двух треугольников?</p> <p><i>В ответе запиши число кружочков</i></p>		7
Задание №8		Ответ
<p>Четыре мальчика играли на барабанах. Всего у них было 6 барабанных палочек. У некоторых мальчиков по 2 палочки, а у остальных по одной палочке. Сколько мальчиков держат по 2 палочки?</p>  <p><i>Сколько мальчиков держат по 2 барабанные палочки?</i></p>		2
Задание №9		Ответ
<p>В примере квадратики заменяют одну и ту же цифру. Какую?</p> <p><i>В ответе запиши только одну цифру</i></p>	$1\square + \square 1 = 55$	4
Задание №10		Ответ
<p>Вася умеет писать только цифры 1, 0 и 2. Сколько разных двузначных чисел он может написать? Цифры в числе могут повторяться.</p> <p><i>В ответе запиши количество двузначных чисел</i></p>		<p style="text-align: center; vertical-align: middle;">6</p> <p><i>Решение:</i> Представим нашу 10, 11, 12, 20, 21, 22</p>
Задание №11		Ответ
<p>Из связки шариков Вася хочет выбрать 4 шарика с цифрами 2, 0, 2, 6 так, чтобы все шарики были разных цветов. Сколько разных наборов шариков у него может получиться?</p> <p><i>В ответе запиши количество разных наборов шариков</i></p>		2
Задание №12		Ответ
<p>Маша, Вася, Петя и Даша рисовали инопланетян. Маша нарисовала своему инопланетянину больше трёх глаз, Вася и Петя нарисовали им по три глаза, а Даша – меньше трёх.</p> <p>Маша и Вася нарисовали инопланетян с двумя головами, а Петя и Даша – с одной. Кто нарисовал</p>		2 <i>Вася</i>

этот рисунок? 1. Маша 2. Вася 3. Петя 4. Даша <i>Выбери правильный ответ и напиши его номер (1 или 2 или 3 или 4)</i>		
--	--	--

Оценка ответов на вопросы конкурса:

- за каждый правильный ответ на задания с 1 по 8 – 8 баллов
- за каждый правильный ответ на задания с 9 по 12 – 9 баллов

Уважаемые участники, родители и координаторы!

Пожалуйста, поделитесь отзывом о конкурсе – нам важно ваше мнение. Расскажите: что нового вы узнали, какие задания были лёгкими, а какие сложными, что вам не понравилось и хотели бы вы участвовать в конкурсе снова. Ваши предложения и замечания ждём на почту: unikum.konkurs@yandex.ru и mir-konkursov2008@yandex.ru.