






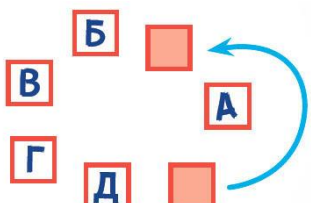


Всероссийская математическая олимпиада  
«Юные математики России-2026»  
(для учащихся 1 классов)



Ответы

Ответ должен быть представлен строго в виде **ОДНОГО СЛОВА, БУКВЫ** или **ЧИСЛА** (согласно условию задания) без кавычек, точек, орфографических ошибок. Неверно записанные ответы не учитываются.

Задание №1		Ответ
<p>Маша каждый день срывает в лесу одну шишку с дерева для своей аппликации, которую она готовит маме на день рождения.</p> <p><i>Сколько шишек она наберет за 2 недели?</i></p>		14
Задание №2		Ответ
<p>Посчитай, сколько всего ягод собрал Ежик в саду, когда помогал маме:</p>  <p><i>В ответе запиши количество ягод</i></p>		2
Задание №3		Ответ
<p>Числа 3, 1, 6, 5, 7 и 8 надо расположить в порядке возрастания. Какое число будет четвёртым в этом списке?</p>  <p><i>В ответе запиши только одно число</i></p>		6
Задание №4		Ответ
<p>В компьютерной игре герою надо как можно быстрее добраться по лестницам от А к Б. По скольким лестницам он будет идти вниз?</p>  <p><i>В ответе запиши только число лестниц</i></p>		2
Задание №5		Ответ
<p>Четыре мальчика играли на барабанах. Всего у них было 6 барабанных палочек. У некоторых мальчиков по 2 палочки, а у остальных по одной палочке. Сколько мальчиков держат по 2 палочки?</p>  <p><i>Сколько мальчиков держат по 2 барабанные палочки?</i></p>		2
Задание №6		Ответ
<p>На пальме сидели 2 попугая, 3 обезьянки и 2 орла. Сколько всего у них крыльев?</p> <p><i>В ответе запиши общее число крыльев</i></p>		8

<b>Задание №7</b>		<b>Ответ</b>
<p>Вместо цифры «5» Вася рисует ладошку, вместо «4» – квадратик, а вместо «3» – треугольник. Найди ответ в примере на рисунке.</p>  <p><i>В ответе запиши результат примера</i></p>		<b>3</b>
<b>Задание №8</b>		<b>Ответ</b>
<p>Бабушка дала внучке Маше 5 пирожков, себе оставила – столько же, а внуку Мише на 2 пирожка больше, чем Маше.</p> <p><i>Сколько всего пирожков получили Миша и Маша?</i></p>		<b>12</b>
<b>Задание №9</b>		<b>Ответ</b>
<p>Петя хочет закрасить все квадратики с буквами на рисунке. Он закрашивает их через один, двигаясь по стрелочке. Квадратик с какой буквой он закрасит последним?</p> <ol style="list-style-type: none"> <li>1. А</li> <li>2. Б</li> <li>3. В</li> <li>4. Г</li> <li>5. Д</li> </ol> <p><i>Выбери правильный ответ и напиши его номер (1 или 2 или 3 или 4 или 5)</i></p>		<b>4 Г</b>
<b>Задание №10</b>		<b>Ответ</b>
<p>В коробке с игрушками у Маши лежат кубики. Если добавить туда ещё пять кубиков, станет 14. Сколько кубиков изначально лежало в коробке?</p> <p><i>В ответ запиши количество кубиков, которые изначально лежали в коробке</i></p>		<b>9</b>
<b>Задание №11</b>		<b>Ответ</b>
<p>Одно яблоко весит столько же, сколько три сливы. Сколько слив надо положить на правую чашу весов, чтобы их уравновесить?</p>  <p><i>В ответе запиши число слив на правой чаше весов</i></p>		<b>5</b>
<b>Задание №12</b>		<b>Ответ</b>
<p>Маша, Вася, Петя и Даша рисовали инопланетян. Маша нарисовала своему инопланетянину больше трёх глаз, Вася и Петя нарисовали им по три глаза, а Даша – меньше трёх.</p> <p>Маша и Вася нарисовали инопланетян с двумя головами, а Петя и Даша – с одной. Кто нарисовал этот рисунок?</p>		<b>2 Вася</b>

1. Маша

2. Вася

3. Петя

4. Даша

**Выбери правильный ответ и напиши его номер (1 или 2 или 3 или 4)**

---

**Оценка ответов на вопросы конкурса:**

- за каждый правильный ответ на задания с 1 по 8 – 8 баллов

- за каждый правильный ответ на задания с 9 по 12 – 9 баллов

Уважаемые участники, родители и координаторы!

Пожалуйста, поделитесь отзывом о конкурсе – нам важно ваше мнение. Расскажите: что нового вы узнали, какие задания были лёгкими, а какие сложными, что вам не понравилось и хотели бы вы участвовать в конкурсе снова. Ваши предложения и замечания ждём на почту: [unikum.konkurs@yandex.ru](mailto:unikum.konkurs@yandex.ru) и [mir-konkursov2008@yandex.ru](mailto:mir-konkursov2008@yandex.ru).