













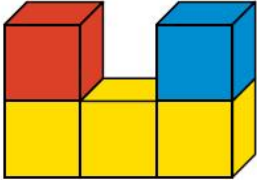







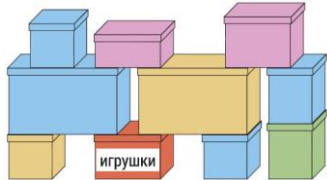
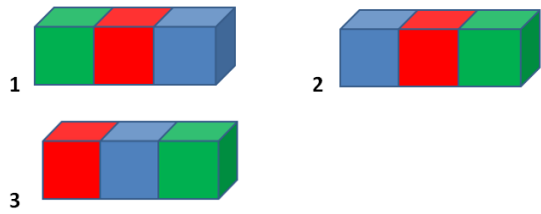

Международная олимпиада по логике
«Увлекательная логика»
(для учащихся 1-2 классов)

Ответы

Ответ должен быть представлен строго в виде ОДНОГО СЛОВА, БУКВЫ или ЧИСЛА (согласно условию задания) без кавычек, точек, орфографических ошибок. Неверно записанные ответы не учитываются.

Задание №1		Ответ
<p>У медвежонка Миши день рождения. К нему пришли друзья. Рассмотрите картинку и посчитайте количество стульев, которые понадобятся для всех друзей, самого именинника и его мамы и папы:</p>  <p><i>В ответе запишите количество стульев</i></p>		7
Задание №2		Ответ
<p>Витя убирал свои игрушки и выставил машинки в ряд одну за другой. Между первой машинкой и последней машинкой стоит пять машин.</p> <p><i>Посчитай сколько всего машинок в ряду?</i></p>		7
Задание №3		Ответ
<p>В каких фигурах находится енот на картинке справа?</p> <p>1)  </p> <p>2)   </p> <p>3)  </p> <p><i>Выбери правильный ответ и напиши его номер (1 или 2 или 3)</i></p>		2
Задание №4		Ответ
<p>Миша и Илья несут домой свои находки. Миша несет килограмм перьев для поделок, а Илья килограмм грибов для пирога. У кого сумка тяжелее?</p> <p>1. у Миши 2. у Ильи 3. Одинаково</p> <p><i>Выбери правильный ответ и напиши его номер (1 или 2 или 3)</i></p>		3
Задание №5		Ответ
<p>Вася построил фигуру из 5 кубиков (на рисунке справа). Как выглядит эта фигура, если смотреть на нее сверху?</p> <p>1  2  3  4  5 </p> <p><i>Выбери правильный ответ и напиши его номер (1 или 2 или 3 или 4 или 5)</i></p>		2

Задание №6		Ответ
<p>Ребята, определите, по какому правилу располагаются зверята. Дополните ряд, вставив пропущенного зверька вместо знака вопроса:</p>  <p>1. Белка 2. Заяц 3. Енот</p> <p><i>Выбери правильный ответ и напиши его номер (1 или 2 или 3)</i></p>		<p>2 Заяц</p>
Задание №7		Ответ
<p>Посмотрите внимательно на картинку и определите, по какому правилу располагаются животные. Напишите, кто должен стоять из животных на месте вопроса?</p>  <p>1. Щенок 2. Поросёнок 3. Енот</p> <p><i>Выбери правильный ответ и напиши его номер (1 или 2 или 3)</i></p>		<p>2</p>
Задание №8		Ответ
<p>Разгадай наш весёлый ребус, в котором зашифровано название красивого цветка.</p> <p>— — — — —</p> <p><i>В ответе запиши полученное слово</i></p>		<p>Гвоздика</p>
Задание №9		Ответ
<p>У медведя есть 3 корзины – красная, синяя и зелёная. Пряник лежит не в красной и не в синей корзине, апельсин – не в красной. Определи, в какой корзине лежит яблоко:</p> <p>1. Красная 2. Синяя 3. Зелёная</p> <p><i>Выбери правильный ответ и напиши его номер (1 или 2 или 3)</i></p>		<p>1 красная</p>
Задание №10		Ответ
<p>Посмотрите на рисунок. Какие две фигурки одного цвета, но разной формы?</p> <p>1. 1 и 5 2. 2 и 4 3. 3 и 4 4. 3 и 6</p> <p><i>Выбери правильный ответ и напиши его номер (1 или 2 или 3 или 4)</i></p>		<p>2 2 и 4</p>

Задание №11		Ответ
<p>Вася фотографировал растущего крольчонка раз в месяц: в феврале, в марте, в апреле, в мае. Получилось 4 фотографии, которые представлены на картинке. Какая фотография была сделана в мае?</p>  <p><i>В ответе запиши номер фотографии</i></p>		2
Задание №12		Ответ
<p>Какое наименьшее число коробок Васе нужно убрать, чтобы он смог открыть коробку с игрушками? При этом остальные коробки не должны упасть.</p> <p><i>В ответе запиши наименьшее число коробок</i></p>		5
Задание №13		Ответ
<p>Медвежонок Миша собирает разноцветные кубики. Красный кубик тяжелее синего, синий легче зеленого, зеленый тяжелее красного. Какие кубики расположены в правильном порядке слева направо по возрастанию массы?</p>  <p><i>Выбери правильный ответ и напиши его номер (1 или 2 или 3)</i></p>		2
Задание №14		Ответ
<p>Маша собиралась в школу. Она надела зелёную шапку, красное пальто и синие сапоги, а портфель забыла. Найди на картинке Машу.</p>  <p><i>Выбери правильный ответ и напиши его номер (1 или 2 или 3 или 4)</i></p>		4

Оценка ответов на вопросы конкурса:

- за каждый правильный ответ на задания с 1 по 12 – 7 баллов
- за каждый правильный ответ на задания с 13 по 14 – 8 баллов

Уважаемые ребята, родители и координаторы!

Мы будем очень благодарны Вам за оставленный отзыв о конкурсе.

Нам очень важно знать ваше мнение о конкурсных заданиях. Что нового вы узнали, участвуя в конкурсе? Какие задания показались лёгкими? А какие самыми сложными? Что вам не понравилось? Хотели бы вы ещё участвовать в подобных конкурсах?

Ждём все Ваши предложения, пожелания и замечания на наши электронные адреса: unikum.konkurs@yandex.ru и mir-konkursov2008@yandex.ru