



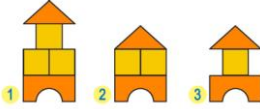



II Международный интеллектуальный конкурс

«Юный математик» (для дошкольников)



Ответы

Ответ должен быть представлен строго в виде **ОДНОГО ЧИСЛА** или **СЛОВА** (согласно условию задания) без кавычек, точек и других дополнительных символов. Неверно записанные ответы не учитываются.

Задание №1		Ответ
У Маши целый апельсин и две половинки апельсина. Сколько всего апельсинов у Маши? <i>В ответе запиши число апельсинов</i>		2
Задание №2		Ответ
В семье зайчат появилось потомство из 8 ушек. Сколько же маленьких зайчат появилось на свет? <i>Запишите число зайчат в ответе</i>		4
Задание №3		Ответ
Найди на картинке домик из таких деталей:  <i>В ответе укажи только номер выбранного варианта (1 или 2 или 3)</i>		2
Задание №4		Ответ
У какой из божьих коровок пятнышек больше, чем 2, но меньше, чем 4?  <i>В ответе укажи только номер выбранного варианта (1 или 2 или 3)</i>		3
Задание №5		Ответ
Бабушка вязала внукам шапочки и носочки. Всего она связала 3 шапочки и 6 носочков. Сколько внуков у бабушки? <i>Запиши число внуков в ответе</i>		3
Задание №6		Ответ
Какая по счёту окажется роза, если считать цветы слева.  <i>В ответе запиши номер розы, если считать цветы слева</i>		5
Задание №7		Ответ
На лесной полянке растёт 6 деревьев по кругу. В каждом промежутке между деревьями Бурундук вырыл по одной норке для своего семейства. Сколько всего норок Бурундука на лесной полянке? <i>В ответе запиши число норок у Бурундука</i>		6

Задание №8		Ответ
<p>Рассмотри картинку и найди все цифры, которые записаны верно. В ответе запиши сумму этих цифр.</p>  <p><i>В ответе запиши только сумму цифр</i></p>		10
Задание №9		Ответ
<p>В тарелке лежат яблоки. Если Матвей и две его сестрёнки возьмут по 2 яблока, то ещё останется 1 яблоко. Сколько яблок лежит в тарелке?</p> <p><i>В ответе запиши число яблок в тарелке</i></p>		7
Задание №10		Ответ
<p>Медвежонок вместе с бочкой мёда весит 10 килограмм, а без бочки – 7 кг. Сколько весит бочка без Медвежонка?</p> <p><i>В ответе запиши вес бочки</i></p>		3
Задание №11		Ответ
<p>Гусеница прогрызает проход через яблоки по порядку. В каждом яблоке она делает вход и выход. Всего гусеница сделала 5 входов и 4 выхода. В каком яблоке сейчас голова гусеницы.</p>  <p><i>В ответе запишите номер яблока, в котором находится голова гусеницы</i></p>		5
Задание №12		Ответ
<p>Бабушка купила Марине подарок. Коробка с подарком обладает тремя свойствами:</p> <ol style="list-style-type: none"> 1) она красная; 2) она не круглая; 3) у нее есть бантик. <p>Найди на картинке коробку с подарком для Марины.</p>  <p><i>В ответе запиши номер коробки (1 или 2 или 3 или 4)</i></p>		1

Оценка ответов на вопросы конкурса:

- за каждый правильный ответ на задания с 1 по 8 – 8 баллов
- за каждый правильный ответ на задания с 9 по 12 – 9 баллов

Уважаемые ребята, родители и координаторы!

Мы будем очень благодарны Вам за оставленный отзыв о конкурсе.

Нам очень важно знать ваше мнение о конкурсных заданиях. Что нового вы узнали, участвуя в конкурсе? Какие задания показались лёгкими? А какие самыми сложными? Что вам не понравилось? Хотели бы вы ещё участвовать в подобных конкурсах?

Ждём все Ваши предложения, пожелания и замечания на наши электронные адреса: unikum.konkurs@yandex.ru и mir-konkursov2008@yandex.ru