

**Международный интеллектуальный конкурс
«Математика вокруг нас»
(для учащихся 1 классов)**

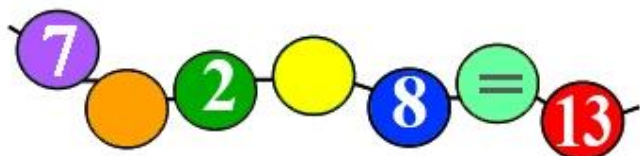
Ответы

Ответ должен быть представлен строго в виде **ОДНОГО ЧИСЛА** или **СЛОВА** (согласно условию задания) без кавычек, точек и других дополнительных символов. Неверно записанные ответы не учитываются.

Задание №1		Ответ
<p align="center">Что следующее?</p> <p>Продолжи заданную последовательность. Какая картинка окажется на месте знака вопрос?</p> <p><i>В ответе укажи только номер выбранного варианта (1 или 2 или 3)</i></p>		<p>1 Ананас</p>
<p align="center">Задание №2</p> <p>Вася загадал число. Это число на 2 меньше, чем число месяцев в году. Какое число загадал Вася?</p> <p><i>В ответе запиши это число</i></p>		<p>10 12-2=10</p>
<p align="center">Задание №3</p> <p>Маша несла в корзинке фрукты. Груш было столько, сколько и яблок. А яблок было столько же, сколько и бананов.</p> <p><i>Сосчитай, сколько всего фруктов несла Маша в корзинке, если бананов было 5.</i></p>		<p>15 5+5+5=15</p>
<p align="center">Задание №4</p> <p>Даша собирала на полянке волшебные математические цветы. Сумма чисел на каждом собранном цветке должна быть больше десяти. Сколько цветов собрала Даша?</p> <p><i>В ответе запишите только количество цветов, собранных Дашей</i></p>		<p>3</p>
<p align="center">Задание №5</p> <p>Петя просыпается ровно за 4 часа до полудня. Посмотрите на рисунок. Найдите часы, которые показывают время пробуждения Пети.</p> <p><i>В ответе укажи только номер выбранного варианта (1 или 2 или 3)</i></p>		<p>2</p>

Задание №6

Расставь знаки «+» и «-» так, чтобы равенство стало верным.



1. нужно поставить «+» и «-»
2. нужно поставить «-» и «+»
3. нужно поставить «+» и «+»

В ответе укажи только номер выбранного варианта (1 или 2 или 3)

2

Задание №7

Вася написал цветными карандашами слово «МАТЕМАТИКА». Одинаковые буквы Вася записывал одним и тем же цветом, разные – разным цветом. Сколько цветных карандашей понадобилось Васе, чтобы написать это слово?

В ответе запишите только число цветных карандашей.

Ответ

6
карандашей

Задание №8

У бабушки четверо внуков. Каждый внук утром съедает два йогурта. Однажды утром одного йогурта не хватило.

Сколько йогуртов было у бабушки тем утром?

Ответ

7

*Решение:
На четверых внуков нужно $2+2+2+2=8$ йогуртов. Если одного йогурта не хватило, значит, их было 7.*

Задание №9


Маша с бабушкой собирали грибы. Если сложить все собранные ими грибы, то получится на 7 грибов больше, чем собрала одна Маша и на 5 грибов больше, чем собрала одна бабушка. *Сколько грибов вместе собрали Маша и бабушка?*

Ответ

12
грибов

Задание №10

Какое число скрывается за бабочкой, если за каждой божьей коровкой спряталось одно и то же число?



В ответе запишите число, которое спряталось за бабочкой.


Ответ

7

за божьей коровкой спряталось число 2, за бабочкой 7

Задание №11

Два апельсина весят столько, сколько весят шесть яблок. Сколько нужно будет взять яблок, чтобы уравновесить три апельсина?



Ответ

9

В ответе запиши только количество яблок

Задание №12		Ответ
<p>Петя, Вася и Миша нашли по одному грибочку: сыроежку, лисичку и мухомор. Петя нашёл гриб, который называется так же, как и рыжая хитрая плутовка из сказок. Вася нашёл съедобный гриб.</p> <p><i>Кто из ребят нашёл мухомор?</i></p> <p><i>1. Петя</i></p> <p><i>2. Вася</i></p> <p><i>3. Миша</i></p> <p><i>В ответе запишите только номер выбранного варианта (1 или 2 или 3)</i></p>		<p>3</p> <p>Миша</p>

Уважаемые ребята, родители и координаторы!

Мы будем очень благодарны Вам за оставленный отзыв о конкурсе.

Нам очень важно знать ваше мнение о конкурсных заданиях. Что нового вы узнали, участвуя в конкурсе? Какие задания показались легкими? А какие самыми сложными? Что вам не понравилось? Хотели бы вы еще участвовать в подобных конкурсах?

Ждем все Ваши предложения, пожелания и замечания на наши электронные адреса: unikum.konkurs@yandex.ru и mir-konkursov2008@yandex.ru