

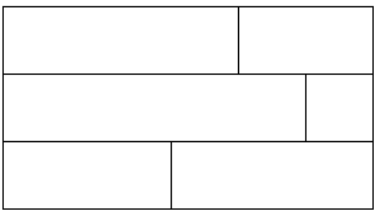

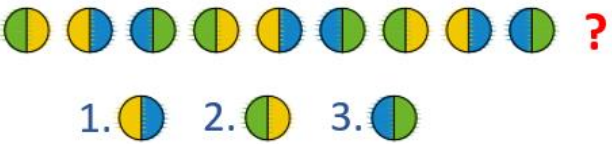



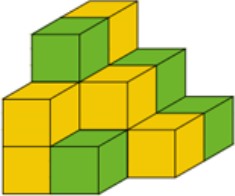
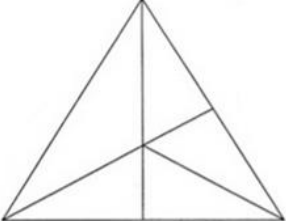

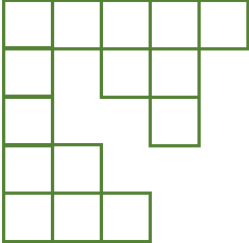

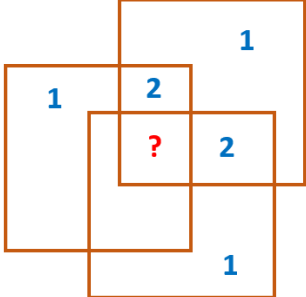
Международный турнир «Математические загадки и развлечения»

(для учащихся 2 класса)

Задания

Ответ должен быть представлен в виде **ОДНОГО ЧИСЛА** без кавычек, точек, орфографических ошибок.

№	Вопрос	
1	У Пети было несколько яблок. Некоторые из них он разрезал и у него получилось 2 целых яблока, 10 половинок и 4 четвертинки. Сколько было яблок у Пети? В ответе запишите только одно число.	
2	Посмотрите на рисунок. Что должно стоять в пустом квадратике? Выберите нужный вариант на рисунке справа. В ответе запишите только номер выбранного варианта.	
3	В двух вазочках лежало по одинаковому количеству конфет. Из первой вазочки переложили во вторую 8 конфет. На сколько больше стало конфет во второй вазочке, чем в первой? В ответе запишите только одно число.	
4	Сосчитайте, сколько прямоугольников на рисунке? В ответе запишите только одно число.	
5	Какое число должно стоять вместо звездочки, чтобы получилось верное равенство? $7+14 + * - 11 = 13$ В ответе запишите только одно число.	
6	Посмотрите на рисунок. Что должно стоять вместо вопросительного знака? В ответе запишите только номер выбранного варианта.	
7	У Маши и Наташи вместе 14 карандашей. У Маши на 2 карандаша больше, чем у Наташи. Сколько карандашей у Наташи? В ответе запишите только одно число.	

8	<p>Сосчитайте, сколько кубиков понадобилось для такой постройки?</p> <p>В ответе запишите только одно число.</p>	
9	<p>Определите, какое число должно стоять вместо звездочки? <i>За одинаковыми рисунками скрываются одинаковые числа, за разными – разные.</i></p> <p>В ответе запишите только одно число.</p>	$\text{☁} + \text{☁} + \text{☁} + 2 = 11$ $\text{☁} + \text{★} = 8$ $\text{★} = ?$
10	<p>Сосчитайте, сколько треугольников на рисунке?</p> <p>В ответе запишите только одно число.</p>	
11	<p>У Ани несколько конфет. Известно, что их меньше десятка. Известно, что все их можно раздать поровну двум или трем детям. Сколько конфет у Ани?</p> <p>В ответе запишите только одно число.</p>	
12	<p>Миша составил большой квадрат из 25 маленьких квадратиков. Несколько маленьких квадратиков потерялось. Сосчитайте, сколько квадратиков потеряно?</p> <p>В ответе запишите только одно число.</p>	
13	<p>Если сегодня вторник, то какой день недели будет через 16 дней?</p> <p>1) вторник 2) среда 3) четверг 4) пятница</p> <p>В ответе запишите только номер выбранного варианта.</p>	
14	<p>Посмотрите на рисунок и догадайтесь, почему числа расположены именно так. Какое число должно стоять вместо вопросительного знака?</p> <p>В ответе запишите только одно число.</p>	
15	<p>Псу Шарикку, коту Ваське и попугаю Кеше вместе 8 лет. Сколько лет им будет вместе через два года?</p> <p>В ответе запишите только одно число.</p>	