

IV Всероссийская викторина по окружающему миру «Путешествие по страницам природы России» (для учащихся 3-4 классов)

Задания

Ответ должен быть представлен строго в виде **ОДНОГО СЛОВА**, **БУКВЫ** или **ЧИСЛА** (согласно условию задания) без кавычек, точек, орфографических ошибок. Некоторые вопросы содержат подсказку – буквы ответа. Букву «ё» можно писать как «ё» или как «е». Неверно записанные ответы не учитываются.

Задание №1

Живая и неживая природа совместно образуют наш мир как единое целое. Живая природа – это всё, что имеет возможность расти, дышать, питаться и развиваться.

По картинкам определи, какой предмет можно отнести к **неживой** природе.

В ответе напиши только номер выбранного варианта (1 или 2 или 3 или 4)



Задание №2

Каким словом можно назвать представителей царства живой природы, изображенных на картинке?

В ответе запиши слово



Задание №3

Разгадай загадку!

Легкий, а не пух.

Мягкий, а не мех.

Белый, а не снег,

Но оденет всех.

Выбери отгадку.

1. Тополинный пух

2. Одуванчик

3. Хлопок

В ответе укажи только номер выбранного варианта (1 или 2 или 3)

Задание №4

Каким словом можно назвать все эти съедобные плоды на картинке?

В ответе запиши слово



Задание №5

К какой группе ты отнесешь растения, изображенные на картинке?

1. Плодовые культуры
2. Овощные культуры
3. Зерновые культуры

В ответе укажи только номер выбранного варианта (1 или 2 или 3)



Задание №6

Каким словом можно назвать представителей царства живой природы, изображенных на картинке?

В ответе запиши слово



Задание №7

Лесные лакомства

У всех зверей и птиц в лесу есть своё особое лакомство. Кому-то нравятся шишки да орешки, кому-то – червячки да гусенички, а кому-то по вкусу листочки, грибочки и веточки. Помоги зверюшкам отыскать их любимую еду.

1. А2-Б3-В1
2. А1-Б2-В3
3. А3-Б1-В2

В ответе укажи только номер выбранного варианта (1 или 2 или 3)



Задание №8

Вспоминай, как называется растение с прочным стеблем – стволом. Бывает вечнозелёное и листопадное.


В ответе запиши название растения



Задание №9

Дикий кабан проголодался. Он никак не может отыскать свои любимые жёлуди. В таком количестве еды трудно найти любимое лакомство. Помоги дикому кабану найти на картинке его любимое лакомство – жёлуди.

В ответе укажи только номер выбранного варианта (1 или 2 или 3 или 4)



Задание №10

Плоды этого колючего лесного кустарника богаты витаминами. Именно поэтому плоды собирают, сушат и готовят из них лечебный отвар. Он помогает при простуде и укрепляет организм. А вот колючки, которыми густо покрыты стебли кустарника, защищают его от поедания животными.

— и — — в — — —

В ответе запиши название растения

Задание №11

Молодые листочки у березы клейкие. А как ты думаешь, почему?

1. Смолистые вещества защищают листья от заморозков
2. Чтобы легче прилипнуть в парилке к телу
3. Через листья береза выделяет сок

В ответе укажи только номер выбранного варианта (1 или 2 или 3)

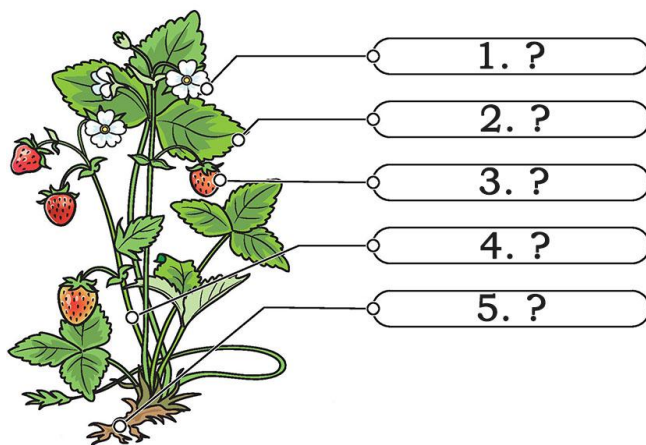
Задание №12

Подпиши части растения, пользуясь справкой.

Справка: стебель, корень, плод с семенами, лист, цветок.

Под каким номером разместится «Плод с семенами»?

В ответе укажи только номер выбранного варианта (1 или 2 или 3 или 4 или 5)



Задание №13

Проверь-ка себя! Как можно узнать, сколько дереву лет?

1. По количеству годовых колец на спиле дерева
2. По количеству веток на дереве
3. По количеству птичьих гнезд на дереве

В ответе укажи только номер выбранного варианта (1 или 2 или 3)

Задание №14

Каким словом можно назвать все эти овощи?

— — — — —

В ответе запиши слово




Задание №15

Заколдованный лес

Каких только деревьев нет в нашем чудесном лесу! И плоды этих деревьев тоже разные – ведь не растут вишни на клёнах и рябинах, а груши не висят на пальмах.

Соедини каждый плод с соответствующим деревом. Выбери правильный вариант ответа.

1. А3-Б1-В2
2. А1-Б3-В2



3. А2-Б3-В1

В ответе напиши только номер выбранного варианта (1 или 2 или 3)

Задание №16

Как ты уже знаешь, овощи растут на грядках. Некоторых из них не видно, потому что они прячутся в земле. А некоторые красуются на веточках и приглашают их попробовать.

Сосчитай на картинке только те овощи, которые растут под землёй.

В ответе укажи количество овощей, которые растут под землёй



Задание №17

Цветы для мамы

Аня хочет подарить своей маме цветы. Но это не просто. Ведь она любит только тюльпаны! Цветов так много, что Аня немного растерялась. Давай поможем ей отыскать нужные цветы на картинке!

В ответе укажи только номер выбранного варианта (1 или 2 или 3 или 4)



Задание №18

В лесу, кроме деревьев, ягод и цветов, растут и грибы. Они красуются на стройных ножках и хвастаются нарядными шляпками. Но не все грибы съедобные, среди них встречаются ядовитые, а потому очень опасные. Давай знакомиться с грибами! Найди и сосчитай на картинке все ядовитые грибы!

В ответе укажи количество ядовитых грибов



Задание №19

Цветочный мир радует нас своим многообразием! Названия некоторых цветков иногда совпадают с названиями их окраски. Например, фиалка бывает фиолетовой. А название какого цветка мы придумали сами?

1. Сиреневый - сирень
2. Розовый - роза
3. Васильковый - василёк
4. Зелёный - зелёнка

В ответе укажи только номер выбранного варианта (1 или 2 или 3 или 4)

Задание №20

Как ты уже знаешь, растения, которые цветут ранней весной, называют первоцветами. У многих из них есть луковицы. В них содержится много питательных веществ. Какое растение, представленное на картинке, можно отнести к первоцветам?

1. Ромашка
2. Астра
3. Подснежник
4. Лилия

В ответе напиши только номер выбранного варианта (1 или 2 или 3 или 4)

