



Международный интеллектуальный конкурс «Математическая карусель» (для дошкольников)

Ответы

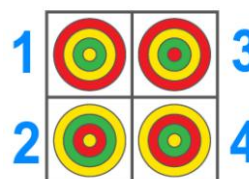
Ответ должен быть представлен строго в виде **ОДНОГО ЧИСЛА** или **СЛОВА** (согласно условию задания) без кавычек, точек и других дополнительных символов. Неверно записанные ответы не учитываются.

Задание №1		Ответ
<p>Какая цифра скрывается за бабочкой?</p> <p><i>В ответе запишите только эту цифру.</i></p> <p>$5 + \text{бабочка} = 9$</p>		4
Задание №2		Ответ
<p>Ребята, посмотрите на картинку. Петя нарисовал паровозик и пронумеровал вагоны цифрами от 1 до 9.</p> <p><i>А какую цифру Петя пропустил?</i></p> <p></p> <p><i>В ответе запишите только пропущенную цифру.</i></p>		4
Задание №3		Ответ
<p>Посмотрите на картинку. Сколько на картинке мышек, которые смотрят влево?</p> <p><i>В ответе запишите только полученное число.</i></p>		4
Задание №4		Ответ
<p>Ребята, на нашем волшебном дереве выросло 5 яблочек (яблочки пронумерованы). На каком яблочке сумма цифр равна 5?</p> <p><i>В ответе укажите только номер яблочка (1 или 2 или 3 или 4 или 5)</i></p>		3
Задание №5		Ответ
<p>Ребята, посмотрите на рисунки. Сколько ягодок нужно еще нарисовать на рисунке слева, чтобы их стало поровну.</p> <p><i>В ответе запишите только число ягодок.</i></p>		3


Задание №10**Ответ**

Ребята, посмотрите на картинку и помогите Мише определить, как его постройка выглядит сверху.

В ответе укажите только номер выбранного варианта (1 или 2 или 3 или 4)

**2****Задание №11****Ответ**

Посмотрите на картинку. Сосчитайте количество букв «а» в названии каждого насекомого на картинке. В названии какого насекомого больше букв «а»?



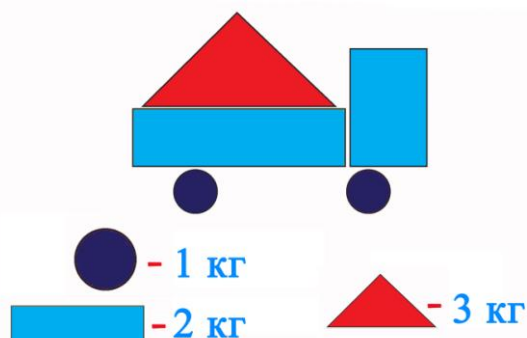
В ответе укажите только номер выбранного варианта (1 или 2 или 3 или 4)

**1****Пояснение:**

В слове «Бабочка» – 2 буквы «а»

Задание №12**Ответ**

Ребята, посмотрите на картинку. Вася собрал машинку из разных геометрических фигур. Вес каждой фигуры указан на рисунке. **Сколько килограммов весит такая машинка?**



В ответе запишите только полученное число.

**9****Решение:**

Машинка состоит из 2-х прямоугольников, 1 треугольника и 2-х кружочков. Каждый прямоугольник весит 2 кг, треугольник весит 3 кг, а кружок - 1 кг.
Итого:
 $2+2+3+1+1=9$