


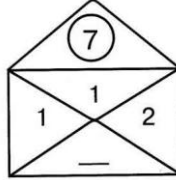


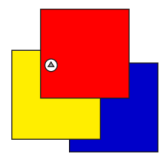


**II Международный конкурс  
«Математическая карусель»  
(для дошкольников)**

**Ответы**

Ответ должен быть представлен строго в виде **ОДНОГО ЧИСЛА** или **СЛОВА** (согласно условию задания) без кавычек, точек и других дополнительных символов. Неверно записанные ответы не учитываются.

<b>Задание №1</b>	<b>Ответ</b>
<p>Вот так грибная задачка!</p> <p><i>Какая цифра зашифрована в ребусе.</i></p>	
<b>Задание №2</b>	<b>Ответ</b>
<p>Веселые цыплята вышли погулять. Нужно всех цыплят скорее сосчитать.</p> <p><i>Сосчитай и запиши, сколько цыплят за забором.</i></p>	
<b>Задание №3</b>	<b>Ответ</b>
<p>Над Машей пролетели: синица, утка, оса, голубь, муха, бабочка и сорока.</p> <p><i>Сосчитай и запиши, сколько птиц пролетели над Машей.</i></p>	
<b>Задание №4</b>	<b>Ответ</b>
<p>Вот так задачка!</p> <p>Найди пропущенную цифру на конверте так, чтобы в сумме получилось число в кружочке.</p> <p><i>В ответе запиши найденную пропущенную цифру.</i></p>	
<b>Задание №5</b>	<b>Ответ</b>
<p>Три девочки взяли по 1 шарик у в каждую руку.</p> <p><i>Сколько всего у них шариков?</i></p>	
<b>Задание №6</b>	<b>Ответ</b>
<p>Вася родился на 2 года раньше Пети. Сейчас Васе 5 лет.</p> <p><i>Найди и запиши, сколько лет Пете?</i></p>	
<b>Задание №7</b>	<b>Ответ</b>
<p>На столе лежат квадратные салфетки одинакового размера одна на одной так, как на рисунке. Вася играл с кнопками и приколот салфетки к столу.</p> <p><i>Салфетка какого цвета не будет приколата кнопкой?</i></p> <p><b>1. Красная</b></p>	

2. Желтая

3. Синяя

В ответе укажите только номер выбранного варианта (1 или 2 или 3)

**Задание №8**

**Ответ**

В зоопарке живёт столько жёлтых попугаев, сколько и синих. Синих попугаев столько же, сколько и красных.

Посчитай, сколько всего попугаев живет в зоопарке, если красных три.



9

Решение:  
 $3+3+3 = 9$   
попугаев

**Задание №9**

**Ответ**

Маша разрежала ленточку в 4-х местах.

Сколько маленьких кусочков ленты получилось у Маши?



5

**Задание №10**

**Ответ**

В магазине стоит очередь. Петя оказался третьим с конца и пятым с начала очереди.

Сколько всего человек стоит в очереди?



7

Решение:  
Представим нашу очередь  
😊😊😊😊😊😊😊

**Задание №11**

**Ответ**

Маша выше Даши, но ниже Кати.

Кто из девочек самый высокий?

1. Маша

2. Даша

3. Катя

В ответе укажите только номер выбранного варианта (1 или 2 или 3)



3

Катя

**Задание №12**

**Ответ**

Даша очень любит рисовать. Она нарисовала 7 больших и 5 маленьких деревьев. Восемь деревьев она раскрасила.

Сколько еще деревьев осталось раскрасить Даше?



4

Решение:  $7 + 5 = 12$   
деревьев нарисовала Даша.  
 $12 - 8 = 4$   
деревья осталось раскрасить Даше.

**Задание №13**

**Ответ**

Найди правильное отражение Маши.

В ответе укажите только номер выбранного варианта (1 или 2 или 3)



1

Решение:  
Зеркальному отражению Маши соответствует рисунок 1

**Задание №14**

**Ответ**

Синий монстрик съел 4 целых апельсина, а Красный – 7 половинок таких же апельсинов.

Кто съел больше?

1. Синий монстрик



1

Решение:  
1) 1 целый апельсин =  
2) половинки.  
Посчитаем

**2. Красный монстрик**

**3. Оба монстрика съели одинаковое кол-во апельсинов.**

**В ответе укажите только номер выбранного варианта (1 или 2 или 3)**

количество половинок, которое съел синий монстрик:  
 $4 \text{ целых апельсина} = 2 + 2 + 2 + 2 = 8$  половинок.

2. Сравниваем количество частей апельсинов, которые съели монстрики:  
 $8 > 7$ .

Ответ: синий монстрик

### Задание №15

Одна цифра скрылась за попугайчиком, а другая за совой.

**Найди и запиши цифру, скрытую за совой.**

$$3 + \text{попугайчик} = 4$$

$$\text{сова} - \text{попугайчик} = \text{попугайчик}$$

### Ответ

**2**

Решение:

Попугай = 1

Сова = 2

### Задание №16

В 12-литровой бочке было 7 литров воды, а в ведре – 8 литров. Водой из ведра дополнили бочку доверху.

**Вычисли и запиши, сколько литров воды осталось в ведре.**



### Ответ

**3**

Решение:

1) чтобы заполнить бочку доверху нужно  $12 - 7 = 5$  литров

2) в ведре осталось  $8 - 5 = 3$  литра воды

Поздравляем, ты достойно справился с заданиями конкурса! Проявил свою эрудицию, сообразительность и пополнил багаж своих знаний! Увидимся на новых интеллектуальных состязаниях!