













**Международный математический конкурс
«Математика вокруг нас - 2023»
(для дошкольников)**

Ответы

Ответ должен быть представлен строго в виде **ОДНОГО СЛОВА**, **БУКВЫ** или **ЧИСЛА** (согласно условию задания) без кавычек, точек, орфографических ошибок. Неверно записанные ответы не учитываются.

Задание №1		Ответ
<p>Вспоминайте сказку «Репка». Сколько всего ушей было у животных, вытянувших репку? <i>В ответе запиши общее число ушей</i></p>		6
Задание №2		Ответ
<p>Маша разрежала ленту в двух местах. Сколько маленьких кусочков ленты у нее получилось? <i>В ответе запиши число кусочков</i></p>		3
Задание №3		Ответ
<p>У Кролика 3 друга. Каждому другу он дал по одной морковке и по одному яблоку. И ещё одно яблоко у него осталось. Сколько у Кролика было яблок? <i>В ответе запиши число яблок</i></p>		4
Задание №4		Ответ
<p>За листьями спрятались одинаковые цифры. Найди цифру, которая скрывается за каждым листиком. Запиши эту цифру в ответе. <i>В ответе запиши цифру за листиком</i></p>		3
Задание №5		Ответ
<p>У Гриши есть 10 рублей. Один леденец стоит 5 рублей. Сколько леденцов сможет купить Гриша? <i>В ответе запиши число леденцов</i></p>		2
Задание №6		Ответ
<p>В каком гнезде больше птенцов?</p> <div style="display: flex; justify-content: space-around; align-items: center;"> <div style="text-align: center;">  1 гнездо </div> <div style="text-align: center;">  2 гнездо </div> </div> <p>1. в первом 2. во втором 3. одинаково <i>В ответе укажи только номер выбранного варианта (1 или 2 или 3)</i></p>		1
Задание №7		Ответ
<p>У Васи на курточке столько пуговиц, сколько изображено на картинке. А у Пети на 3 пуговицы больше. Сколько пуговиц на курточке Пети? <i>В ответе запиши число пуговиц у Пети</i></p>		7

Задание №8		Ответ
<p>Посмотри на картинки. Одно яблоко весит как 2 грибочка. А маленький ёжик весит как 4 грибочка. Определи вес ёжика в яблоках.</p>  <p><i>В ответе запиши вес ёжика в яблоках</i></p>		<p>2 яблока</p>
Задание №9		Ответ
<p>Над квартирой Гриши 3 этажа и под квартирой Гриши 3 этажа. Сколько этажей в Гришином подъезде?</p> <p><i>В ответе запиши число этажей</i></p>		<p>7</p> <p><i>Решение:</i> не забываем добавить Гришин этаж $3+1+3=7$ 😊😊😊😊😊😊😊</p>
Задание №10		Ответ
<p>Найди верную тень ёжика.</p>  <p><i>В ответе укажи только номер выбранного варианта (1 или 2 или 3)</i></p>		<p>1</p>
Задание №11		Ответ
<p>Ребята, сосчитайте всех рыбок, которые плывут НАЛЕВО.</p> <p><i>В ответе запиши количество рыбок, которые плывут налево</i></p>		<p>8</p>
Задание №12		Ответ
<p>Продолжи заданную последовательность.</p>  <p>Какая картинка окажется на месте знака вопрос?</p> <p><i>В ответе укажи только номер выбранного варианта (1 или 2)</i></p>		<p>1 Треугольни к</p>
Задание №13		Ответ
<p>У бабушки 3 внучки. Перед походом в детский сад она заплетает каждой из них косички: одну или две. Сегодня она заплела всего 4 косички. Сколько внучек пошли в детский сад с одной косичкой?</p> <p><i>В ответе запиши число внучек с одной косичкой</i></p>		<p>2</p> <p><i>Решение:</i> 1 внучка с двумя косичками и 2 внучки с одной косичкой</p>
Задание №14		Ответ
<p>Кот и корова живут на одном этаже. Кто живёт на одном этаже с зайцем?</p> <ol style="list-style-type: none"> 1. Кот 2. Петух 3. Корова <p><i>В ответе укажи только номер выбранного варианта (1 или 2 или 3)</i></p>		<p>2 Петух</p>