

III Международная викторина

«О спорт – ты мир!»




учащиеся 6 - 8 классов




Ответы

1. История спорта

Ответ запишите словами или буквами (при выборе ответа).

Внимание: за каждый правильный ответ 3 балла (всего 15 баллов)!






№	Вопрос	Ответ			
1	<p>Некоторые из дисциплин Античных Олимпийских игр, знакомые нам по современным соревнованиям, заметно отличаются от своих нынешних аналогов. Греческие атлеты прыгали в длину не с разбега, а с места – к тому же с камнями (позже с гантелями) в руках. Что они делали с этими камнями?</p> <p>А) В начале прыжка спортсмен выбрасывал камни вперед, благодаря богам за возможность участвовать в олимпиаде. Б) В конце прыжка спортсмен отбрасывал камни резко назад: считалось, что это позволяет ему прыгнуть дальше. В) Во время прыжка спортсмен разбрасывал камни вокруг, чтобы точно указать место своего приземления.</p> 	<p>Б) В конце прыжка спортсмен отбрасывал камни резко назад: считалось, что это позволяет ему прыгнуть дальше.</p>			
2	<p>Разгадайте ребус и узнайте, как называлось открытое в 1774 году в Германии закрытое учебное заведение, в котором уделялось большое внимание спорту: борьбе, бегу, фехтованию, верховой езде. Даже униформа для воспитанников была сшита из специальной лёгкой ткани.</p> <p>и=а , , , ,</p> 	<p>филантропинум</p>			
3	<p>На первых Олимпиадах было немало странных по сегодняшним меркам видов спорта. Например, метание копья обеими руками и толкание булыжника. На играх 1900 года в Париже было плавание с препятствиями на 200 метров. Что это были за препятствия?</p> <p>А) Пловцам надо было пробираться сквозь буйки и нырять за привязанными в воде шарами. Б) Пловцам надо было пробираться среди погруженных в воду брёвен и нырять под поставленные на якорь лодки. В) Пловцам надо было пробираться через установленные в воде шлагбаумы и нырять под поставленные на якорь корабли.</p>	<p>Б) Пловцам надо было пробираться среди погруженных в воду брёвен и нырять под поставленные на якорь лодки.</p>			
4	<p>На эмблемах Олимпийских игр год обычно обозначается двумя (например, Барселона-92) или четырьмя цифрами (например, Пекин-2008). Но один раз год был обозначен пятью цифрами. Когда это случилось и где?</p> <p>А) Это случилось в 1900 году, в Париже Б) Это случилось в 2000 году, в Сиднее В) Это случилось в 1960 году, в Риме</p> 	<p>В) Это случилось в 1960 году, когда Олимпиада проходила в Риме — число 1960 было записано как MCMLX.</p>			
5	<p>Многие древнегреческие мыслители, учёные участвовали в Олимпийских играх. Найдите соответствие между мыслителем и победой в ОИ.</p> <table border="1" data-bbox="150 2047 1278 2085"> <tr> <td>1) ПИФАГОР</td> <td>2) ПЛАТОН</td> <td>3) ГИППОКРАТ</td> </tr> </table>	1) ПИФАГОР	2) ПЛАТОН	3) ГИППОКРАТ	<p>1 – Б 2 – А 3 – В</p>
1) ПИФАГОР	2) ПЛАТОН	3) ГИППОКРАТ			

			
А	Б	В	
Два раза становился победителем олимпийских игр по панкратиону.	Был чемпионом по кулачному бою.	Достиг значительных успехов в борьбе и гонках на колесницах.	

2. Виды спорта

Ответ запишите словами или буквами (при выборе ответа).






Внимание: за каждый правильный ответ 3 балла (всего 15 баллов)!

№	Вопрос	Ответ
1	<p>Какой вид спорта (из представленных вариантов) существует?</p> <p>А) Шахбокс Б) Шашкобол В) Лотокёрлинг</p> 	А) Шахбокс
2	<p>В восточных странах популярны верблюжьи бега. Управлять верблюдом жокею совсем несложно, поэтому решающее значение имеет вес: чем легче жокей, тем больше преимущества у пары. Сначала в качестве наездников привлекали мальчиков от 4 лет. Потом детский труд запретили. Кого теперь используют в качестве наездников в ОАЭ и Катаре?</p> <p>А) Маленьких обезьянок Б) Миниатюрных роботов-жокеев В) Дрессированных собак</p> 	Б) Миниатюрных роботов-жокеев
3	<p>Бильярд произошёл от игр с палкой и шарами на открытом воздухе и в какой-то мере родственен гольфу и крокету. А почему сукно традиционно делают зелёного цвета?</p> <p>А) Зелёный цвет – символ надежды на победу. Б) Дань традиции – как и цвет травы А) под цвет первых шаров.</p> 	Б) Дань традиции – как и цвет травы
4	<p>Какой вид спорта зашифрован в ребусе?</p> 	Бобслей
5	<p>До 1887 года все бегуны стояли на старте в полный рост, ожидая команды начать бег. Низкий старт придумал американский спринтер Шерилл после наблюдений за животными одного вида, которые перед началом движения пригибаются к земле. Когда он, несмотря на протест судьи и насмешки зрителей, применил новый способ, сразу же выиграл забег. За какими животными наблюдал спортсмен?</p> <p>А) За кенгуру Б) За тиграми В) За зебрами</p> 	А) За кенгуру

3. Великие спортсмены летних видов спорта

Ответ запишите словами или буквами (при выборе ответа).
















Внимание: за каждый правильный ответ 3 балла + 4 балла дополнительно (№ 3 и № 5) (всего 19 баллов)

	Вопрос	Ответ
1	 <p>Этот советский баскетболист, уроженец Латвии, начал заниматься баскетболом только в 23 года. Уже через два года он стал чемпионом СССР, а ещё через год выиграл серебро Олимпиады-1956 в Мельбурне. О каком спортсмене идёт речь? А) Раймондас-Шарунас Марчюленис Б) Янис Круминьш В) Арвидас Сабонис</p>	Б) Янис Круминьш
2	<p>Двукратный олимпийский чемпион по одиночной гребле из Австралии свою первую золотую медаль выиграл в Амстердаме в 1928 году. В четвертьфинальном заезде он сильно опережал соперника, как вдруг заметил преграждающую ему путь утку с утятами. Он решил остановиться и пропустить их, а в это время противник обошёл его на пять корпусов. Однако спортсмен сумел выиграть как этот заезд, так и все последующие. О каком спортсмене идёт речь? А) Бобби Пирс Б) Алан Фергюсон В) Кнут Хольман</p> 	А) Бобби Пирс
3	<p>По картинке определите, о каком спортсмене идёт речь?</p>  <p>Оценивание: 3 балла – правильно указаны имя и фамилия + 1-2 балла за представленную дополнительную информацию</p>	<p>Немов Алексей Юрьевич</p> <p>Алексей Немов является рекордсменом сборной России по количеству олимпийских медалей — 12 (четыре золотых, две серебряных и шесть бронзовых).</p> <p>Имя Алексея Немова занесено в Книгу рекордов Гиннеса.</p>
4	<p>Эти спортсменки - одна из главных сенсаций и неожиданностей Игр в Рио. Пять золотых наград в фехтовании на одной Олимпиаде не удавалось получить ни одной стране с 1920 года. Фехтование на Олимпиаде – главный успех нашей сборной. Первой медальную копилку открыли российские девушки, которые устроили российский финал в фехтовании. О каких спортсменах идёт речь? А) Наталья Ищенко и Светлана Ромашина Б) Яна Егорян И Софья Великая В) Маргарита Мамун и Яна Кудрявцева</p> 	Б) Яна Егорян и Софья Великая
5	<p>По картинке определите, кто лишний?</p> <p style="text-align: center;">1 2 3</p>  <p>Оценивание: 3 балла – правильно указаны номер картинке, имя и фамилия, дано объяснение такому выбору + 1-2 балла за представленную дополнительную информацию</p>	<p>№ 3 - Исинбаева Елена Гаджиевна, Двукратная олимпийская чемпионка по лёгкой атлетике</p> <p>А под № 1 и 3 – олимпийские чемпионки по спортивной гимнастике: 1 – Светлана Хоркина, 2 – Оксана Чусовитова.</p> <p>2 вариант: № 2 - Оксана Чусовитова, стала чемпионкой ОИ 1 раз, а Светлана Хоркина и Елена Исинбаева – двукратные олимпийские чемпионки.</p>

4. Великие спортсмены зимних видов спорта

Ответ запиши словами или буквами (при выборе ответа).













Внимание: за каждый правильный ответ 3 + 3 балла дополнительно (№ 1 и № 2) (всего 18 баллов)

	Вопрос	Ответ												
1	<p>По картинке определите, какой спортсмен случайно попал в эту спортивную компанию.</p> <div style="display: flex; justify-content: space-around; align-items: center;"> <div style="text-align: center;">1 </div> <div style="text-align: center;">2 </div> <div style="text-align: center;">3 </div> </div> <p>Оценивание: 3 балла – правильно указан №, фамилия спортсмена и дано объяснение своего выбора + 1 балл за представленную дополнительную информацию об этом спортсмене</p>	<p>3 Александр Овечкин – хоккеист. Остальные – футболисты.</p>												
2	<p>Угадайте фамилию спортсмена, зашифрованную в ребусе?</p> <div style="text-align: center;">  </div> <p>Оценивание: 3 балла – правильно указана фамилия спортсмена + 1 - 2 балла за представленную дополнительную информацию</p>	<p>Костомаров</p>												
3	<p>Этот австрийский спортсмен, двукратный олимпийский чемпион и четырёхкратный обладатель Кубка мира по горным лыжам, имеет прозвище «Херминатор». О каком спортсмене идёт речь?</p> <p>А) Хенрик Кристофферсен Б) Херманн Майер В) Марсель Хиршер</p>	<div style="text-align: center;">  </div> <p>Б Херманн Майер</p>												
4	<p>Эта 17-летняя спортсменка стала первой в отечественной истории олимпийской чемпионкой в женском одиночном фигурном катании. Это произошло на домашней Олимпиаде – 2014 в Сочи. О какой спортсменке идёт речь?</p>	<div style="text-align: center;">  </div> <p>Аделина Сотникова</p>												
5	<p>Найдите соответствие между рядами (в первом – фото спортсменки, во втором – информация). Укажите фамилию и имя каждой спортсменки.</p> <table border="1" style="width: 100%; text-align: center;"> <tr> <td style="background-color: yellow;">1)</td> <td style="background-color: yellow;">2)</td> <td style="background-color: yellow;">3)</td> </tr> <tr> <td></td> <td></td> <td></td> </tr> <tr> <td style="background-color: yellow;">А</td> <td style="background-color: yellow;">Б</td> <td style="background-color: yellow;">В</td> </tr> <tr> <td>Фигуристка, чемпионка мира 2015, чемпионка I зимних юношеских Олимпийских игр.</td> <td>Биатлонистка, олимпийская чемпионка 2010 года в эстафете, чемпионка мира 2009 года в эстафете. Заслуженный мастер спорта.</td> <td>Конькобежка, серебряный призёр Олимпийских игр 2014 года на дистанции 500 метров. Заслуженный мастер спорта.</td> </tr> </table>	1)	2)	3)				А	Б	В	Фигуристка, чемпионка мира 2015, чемпионка I зимних юношеских Олимпийских игр.	Биатлонистка, олимпийская чемпионка 2010 года в эстафете, чемпионка мира 2009 года в эстафете. Заслуженный мастер спорта.	Конькобежка, серебряный призёр Олимпийских игр 2014 года на дистанции 500 метров. Заслуженный мастер спорта.	<p>1 – В Ольга Фаткулина</p> <p>2 – А Елизавета Туктамышева</p> <p>3 – Б Светлана Слепцова</p>
1)	2)	3)												
														
А	Б	В												
Фигуристка, чемпионка мира 2015, чемпионка I зимних юношеских Олимпийских игр.	Биатлонистка, олимпийская чемпионка 2010 года в эстафете, чемпионка мира 2009 года в эстафете. Заслуженный мастер спорта.	Конькобежка, серебряный призёр Олимпийских игр 2014 года на дистанции 500 метров. Заслуженный мастер спорта.												

5. Спортивные медали, кубки, значки, эмблемы и талисманы

Ответ запишите словами или буквами (при выборе ответа).





Внимание: за каждый правильный ответ 3 балла + 1 балл дополнительно (№ 1) (всего 16 баллов)

№	Вопрос	Ответ
1	<p>По картинке определите, какой олимпийский талисман лишний?</p> <div style="display: flex; justify-content: space-around; align-items: center;"> <div style="text-align: center;">1 </div> <div style="text-align: center;">2 </div> <div style="text-align: center;">3 </div> </div> <p>Оценивание: 3 балла – правильно указан № картинки и названо имя этого талисмана + 1 балл – представлена дополнительная информация</p>	<p>3</p> <p>Тигрёнок Ходори Талисман Олимпийских летних игр в 1988 в Сеуле, Южная Корея</p> <p>1 и 2 талисманы Олимпиады -1980</p>
2	<p>В 1924 году братья Адольф и Рудольф Дасслеры основали фирму, которая быстро стала одним из мировых лидеров в производстве спортивной обуви. Однако после Второй Мировой войны они поссорились и разделили компанию пополам. Немецкий городок, где базируются две эти фирмы, и по сей день расколот на две половины, жители которых недолюбливают друг друга. О каких фирмах идёт речь?</p> <p>А) Fila и Converse Б) Reebok и Nike В) Adidas и Puma</p> <div style="text-align: right;">  </div>	<p>В</p> <p>Adidas и Puma</p> <p>Адольф назвал свою фирму Adidas (от Adi Dassler), а Рудольф — RuDa (от Rudi Dassler), несколько позже переименовав её в Puma.</p>
3	<p>Какие из представленных спортивных наград не являются единоличными, а передаются новым чемпионам?</p> <div style="display: flex; justify-content: space-around; align-items: center;"> <div style="text-align: center;">1 </div> <div style="text-align: center;">2 </div> <div style="text-align: center;">3 </div> <div style="text-align: center;">4 </div> </div>	<p>1 – кубок Стэнли 4 - Чемпионский пояс по боксу</p>
4	<p>Древним прототипом этого спортивного символа считается специальная амфора. Во время Олимпийских игр в Древней Греции победителю доставалась чаша особенной формы с налитым в нее оливковым маслом, которое считалось священным. По картинке определите, о каком спортивном символе идёт речь?</p> <div style="display: flex; justify-content: space-around; align-items: center;"> <div style="text-align: center;">1 </div> <div style="text-align: center;">2 </div> <div style="text-align: center;">3 </div> </div>	<p>1</p> <p>спортивный кубок</p>
5	<p>На этой монете, выпущенной в 2014 году, дизайнеры Центробанка поместили рельефные изображения трех талисманов и эмблемы XXII Олимпийских зимних игр 2014 года в городе Сочи. Укажите имена талисманов.</p> <div style="text-align: right;">  </div>	<p>леопард Барсик белый медведь Полюс Зайка</p>

6. Его величество Случай!

Ответ запишите словами или буквами (при выборе ответа).

Внимание: за каждый правильный ответ 3 балла + 2 балла дополнительно (№ 5) (всего 17 баллов)

№	Вопрос	Ответ
1	<p>Во время командных соревнований по гимнастике японец Сун Фудзимото сломал колено. Не сказав ни слова, он продолжил выступления на коне и на кольцах, идеально приземлившись в финале на обе ноги, и только после этого упал, корчась от боли. Благодаря его оценкам Япония обошла советских гимнастов и заняла первое место. На какой Олимпиаде это произошло?</p> <p>А) Олимпиада 1992 года в Барселоне Б) Олимпиада 1980 года в Москве В) Олимпиада 1976 года в Монреале</p>	<p>В</p> <p>Олимпиада 1976 года в Монреале</p> 
2	<p>16 сентября 1976 года в Ереванское озеро сорвался троллейбус. Как раз в это время чемпион мира и неоднократный мировой рекордсмен по подводному плаванию со своим братом и тренером совершали утреннюю пробежку. Увидев аварию, они сразу же приступили к спасению людей. Спортсмен — на глубине в условиях нулевой видимости разбил стекло троллейбуса и доставал людей уже в бессознательном состоянии по одному за каждый нырок. Всего братьям удалось спасти 20 человек. О каком спортсмене идёт речь?</p> <p>А) Шаварш Карапетян Б) Артур Алексанян В) Альберт Азарян</p>	<p>А</p> <p>Шаварш Карапетян</p> 
3	<p>Аргентинский вратарь, выступавший за испанскую «Мальорку», на пике своей карьеры объявил о её завершении, хотя им интересовались многие известные клубы. Своё решение он объяснил тем, что ждал конца света, который должен был прийти вместе с третьим тысячелетием. После он вернулся в футбол, но играл только в командах низших дивизионов. О каком спортсмене идёт речь?</p> <p>А) Роберто Перфумо Б) Убальдо Фильоль В) Карлос Роа</p>	<p>В</p> <p>Карлос Роа</p> 
4	<p>В 1/8 финала розыгрыша Кубка европейских чемпионов 1962 года баскетболистки ленинградского СКА выиграли дома у польского «Академика» и проводили ответный матч в гостях. Перед концом встречи счёт был 70:70, и по регламенту команд ждал дополнительный тайм. Опасаясь растерять преимущество, тренер СКА дал указание одной из спортсменок, выполнив которое по сумме двух игр наша команда прошла дальше. Какое указание дал тренер?</p> <p>А) Забросить мяч в свою корзину. Б) Нарушить правило. В) Выполнить силовой прием против соперниц.</p>	<p>А)</p> <p>Забросить мяч в свою корзину.</p> 
5	<p>Немецкий бобслеист Мануэл Махата не сумел отобраться на Олимпиаду в Сочи. Незадолго до соревнований он отдал новые полозья от своего боба, пришедшие накануне из Швейцарии, российскому спортсмену, который взял два «золота» — в двойках и четверках. О каком российском спортсмене идёт речь?</p> <p>Оценивание: 3 балла – правильно указаны имя и фамилия + 1-2 балла за представленную дополнительную информацию</p>	<p>Александр Зубков</p> 