




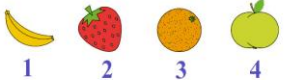























**II Международный интеллектуальный
конкурс «Марафон Знаний»
(для учащихся 2 классов)**

Ответы

Ответ должен быть представлен строго в виде **ОДНОГО СЛОВА**, **БУКВЫ** или **ЧИСЛА** (согласно условию задания) без кавычек, точек, орфографических ошибок. Некоторые вопросы содержат подсказку – буквы ответа. Букву «ё» можно писать как «её» или как «е». Неверно записанные ответы не учитываются.

Задание №1		Ответ																
<p>Винни-Пух, Кролик и Пятачок ожидали поезд 3 часа. <i>Сколько часов ожидал поезд каждый из них?</i></p>		<p align="center">3</p>																
<p>Подумайте, как назвать одним словом и Тортиллу из сказки про Буратино, и медлительного человека? <i>— е — — — — —</i> <i>В ответе запишите это слово</i></p>		<p align="center">Черепаша</p>																
<p>В 12-литровой бочке было 9 литров воды, а в ведре – 8 литров. Водой из ведра дополнили бочку доверху. <i>Вычисли и запиши, сколько литров воды осталось в ведре.</i></p> <div style="display: flex; justify-content: space-around; align-items: center;"> <div style="text-align: center;">  12 л </div> <div style="text-align: center;">  8 л </div> </div>		<p align="center">5</p> <p><i>Решение:</i> 1) чтобы заполнить бочку доверху нужно $12 - 9 = 3$ литра 2) в ведре осталось $8 - 3 = 5$ литров воды</p>																
<p>Ребята, решите головоломку (судоку). Поместите недостающие картинки в пустые клетки таблицы. Одна и та же картинка не должна повторяться внутри строчки и столбца таблицы. Какая из четырех пронумерованных картинок должна быть в клетке под знаком «?».</p> <div style="text-align: center;">  </div> <table border="1" style="margin: 10px auto; border-collapse: collapse;"> <tr> <td align="center"></td> <td></td> <td></td> <td align="center"></td> </tr> <tr> <td></td> <td align="center"></td> <td align="center"></td> <td align="center"></td> </tr> <tr> <td align="center"></td> <td></td> <td align="center">?</td> <td align="center"></td> </tr> <tr> <td align="center"></td> <td align="center"></td> <td align="center"></td> <td align="center"></td> </tr> </table> <p><i>В ответе укажите только номер выбранного варианта (1 или 2 или 3 или 4)</i></p>											?							<p align="center">2</p>
																		
																		
		?																
																		

Задание №5

Числа заменили картинками. Одинаковым числам соответствуют одинаковые картинки. Реши пример.

В ответе запиши результат последнего примера.

$$\text{стул} + \text{стул} + \text{стул} = 18$$

$$\text{лампочка} + \text{лампочка} + \text{стул} = 14$$

$$\text{ключ} + \text{ключ} + \text{стул} = 20$$

$$\text{стул} + \text{лампочка} + \text{ключ} = \dots$$



Ответ

17


Решение:

- 1) Стул равен 6 ($6+6+6=18$)
- 2) Лампочка равна 4 ($4+4+6=14$)
- 3) Ключ равен 7 ($7+7+6=20$)
- 4) Решаем последний пример:
 $6+4+7=17$

Задание №6

Шифровка от единорога

Расшифруй и запиши слово с помощью кода.

Ь	М	К	□	□	□	□
Т	А	О				
Л	Е	С	□	□	□	□

В ответе запиши получившееся слово



Ответ

Кокос

Задание №7

Петя всегда говорит правду, а Вася всегда обманывает. Петя смотрит на 4 пирамидки сбоку (как мы с вами, ребята). А Вася смотрит на эти же пирамидки сверху.

Петя: у этой пирамидки нижнее кольцо красного цвета.

Вася: я вижу все кольца этой пирамидки.

О какой пирамидке они говорят?



В ответе укажите только номер выбранного варианта (1 или 2 или 3 или 4)



Ответ

3

- 1) Поскольку Петя всегда говорит правду, значит, нижнее кольцо этой пирамидки красного цвета. Под это условие подходят пирамидка №1 и пирамидка №3.
- 2) Вася обманывает, что он видит все кольца пирамидки. У пирамидки №1 он и правда видит сверху все кольца, а у пирамидки №3 – не видит. Значит, мальчики говорят о пирамидке №3.

Задание №8

Задание из мира сказок. Кто с кем дружит?

Подбери пару-друга каждому сказочному персонажу.



Выбери правильный вариант ответа:

1. 1Б, 2А, 3Г, 4В

2. 2В, 4Б, 1А, 3Г

3. 4А, 3Б, 2Г, 1В

В ответе укажи только номер выбранного варианта (1 или 2 или 3)

**Ответ****3****Задание №9**

Найдите слово из трех букв, которое одновременно является окончанием первого слова и началом второго слова. *Примеры:* у (гол) ова, под (вал) енок

Начало первого слова: каб...

Окончание второго слова: ... ошко

В ответе запишите найденное слово из трех букв

**Ответ****Лук****Задание №10**

Весёлые анаграммы

Расставьте буквы так, чтобы получились слова. Найдите лишнее слово, которое не подходит по смыслу к остальным:

1. карелта

2. калож

3. данмоче

4. шкача

В ответе запишите только одно это лишнее слово

**Ответ****3
Чемодан****Задание №11**

Ребята, вспоминайте героев сказки про Незнайку и его друзей. Расположите перечисленных героев в алфавитном порядке. Кто из героев сказки будет стоять на **первом** месте?

1. Знайка

2. Винтик

3. Шпунтик

4. Пончик

5. Незнайка

6. Ворчун

В ответе укажи только номер выбранного варианта (1 или 2 или 3 или 4 или 5 или 6)

**Ответ****2
Винтик**

Задание №12

Задание из мира сказок. Как ты думаешь, кто мог отправить такую телеграмму:



— — — —

В ответе укажи, что это за персонаж



Лиса

Задание №13

В мире волшебников эта птица выполняет работу почтальонов. При этом она всегда знает, где найти адресата, даже если на конверте стоит только имя получателя, а его дом находится под неизвестным заклятием. А в нашем мире – это хищники и питаются они грызунами и небольшими птицами.



В ответе укажи только номер выбранного варианта (1 или 2 или 3 или 4)



2

Задание №14

Определи хвойное растение. Запиши его название в ответе.



В ответе запиши название хвойного растения



Сосна

Задание №15

Ядовитых грибов, по сравнению со съедобными, совсем немного. Некоторые из них могут быть смертельно опасными для человека. Рассмотрни внимательно картинки. Какую группу из 3 картинок ты отнесешь к **ядовитым** грибам.



В ответе укажи только номер выбранного варианта (1 или 2 или 3)



3

Задание №16

Ответ

Расположи этих морских обитателей в порядке **ВОЗРАСТАНИЯ** их размеров и выбери правильный ответ.



1. КРЕВЕТКА



2. АКУЛА



3. КИТ



4. ЧЕРЕПАХА

1. 4-2-1-3
2. 1-4-2-3
3. 2-4-3-1

В ответе укажи только номер выбранного варианта (1 или 2 или 3)



2